



**INFORMATIK-BIBER SCHWEIZ
CASTOR INFORMATIQUE SUISSE
CASTORO INFORMATICO SVIZZERA**

Quesiti 2023

5^o e 6^o anno scolastico

<https://www.castoro-informatico.ch/>


A cura di:

Susanne Datzko-Thut, Nora A. Escherle, Masiar Babazadeh,
Christian Giang, Jean-Philippe Pellet

010100110101011001001001
01000010010110101010011
010100110100100101000101
001011010101001101010011
01001001010010010010001

SSI

www.svia-ssie-ssii.ch
schweizerischerverein für informatik in d
erausbildung // société suisse pour l'infor
matique dans l'enseignement // società sviz
zera per l'informatica nell'insegnamento





Hanno collaborato al Castoro Informatico 2023

Masiar Babazadeh, Susanne Datzko-Thut, Jean-Philippe Pellet, Giovanni Serafini, Bernadette Spieler

Capo progetto: Nora A. Escherle

Un particolare ringraziamento per il lavoro sui quesiti del concorso Svizzero va a:

Juraj Hromkovič, Angélica Herrera Loyo, Regula Lacher und Manuel Wettstein: ETH Zürich, Ausbildunges- und Beratungszentrum für Informatikunterricht

Tobias Berner: Pädagogische Hochschule Zürich

Christian Datzko: Wirtschaftsgymnasium und Wirtschaftsmittelschule, Basel

Fabian Frei: CISPA - Helmholtz-Zentrum für Informationssicherheit

Sebastian Knüsli: Gymnasium Kirschgarten, Basel

La scelta dei quesiti è stata svolta in collaborazione con gli organizzatori dei concorsi in Germania, Austria, Ungheria, Slovacchia e Lituania. Ringraziamo specialmente:

Valentina Dagienė, Vaidotas Kinčius: Bebras.org, Lituania

Wolfgang Pohl, Jakob Schilke: Bundesweite Informatikwettbewerbe (BWINF), Germania

Hannes Endreß: Materna Information & Communications SE, Germania

Ulrich Kiesmüller: Simon-Marius-Gymnasium Gunzenhausen, Germania

Kirsten Schlüter: Bayerisches Staatsministerium für Unterricht und Kultus, Germania

Margareta Schlüter: Universität Tübingen, Germania

Jacqueline Staub: Universität Trier, Germania

Michael Weigend: WWU Münster, Germania

Wilfried Baumann, Liam Baumann, Josefine Hiebler: Österreichische Computer Gesellschaft, Austria

Gerald Futschek: Technische Universität Wien, Austria

Zsuzsa Pluhár: ELTE Informatikai Kar, Ungheria

La versione online del concorso è stata creata su cuttle.org. Ringraziamo per la buona collaborazione:

Eljakim Schrijvers, Justina Dauksaite, Arjan Huijsers, Dave Oostendorp, Alieke Stijf, Kyra Willekes: cuttle.org, Olanda

Chris Roffey: UK Bebras Administrator, Regno Unito

Per il supporto durante le settimane del concorso ringraziamo:

Hanspeter Erni: Direttore scuola media di Rickenbach

Gabriel Thullen: Collège des Colombières, Versoix

Ringraziamo l'ETH per l'organizzazione e lo svolgimento della finale del Castoro:

Dennis Komm, Hans-Joachim Bückenhauer, Jan Lichensteiger, Moritz Stocker: ETH di Zurigo, Ausbildunges- und Beratungszentrum für Informatikunterricht

Per la correzione dei compiti finali:

Fiona Binder, Joel Birrer, Marlene Bötschi, Danny Camenisch, Gianluca Danieletto, Alexander Frey, Sven Grübel, Laure Guerrini, Charlotte Knierim, Richard Královič, Yanik Künzi, Kenli Lao, Sandro Marchon, Zoé Meier, Dario Näpfer, Kai Zürcher



Per la traduzione dei compiti finali in francese:

Jan Schönbächler: Lycée-Collège de l'Abbaye de St-Maurice

Christoph Frei: Chragokyberneticks (Logo Informatik-Biber Schweiz)

Andrea Leu, Maggie Winter, Lena Frölich: Senarclens Leu + Partner AG

Un ringraziamento speciale va ai nostri grandi sponsor Juraj Hromkovič, Dennis Komm, Gabriel Parriaux e la Fondazione Hasler. Senza di loro, questo concorso non esisterebbe.

L'edizione dei quesiti in lingua tedesca è stata utilizzata anche in Germania e in Austria.

La traduzione francese è stata curata da Elsa Pellet mentre quella italiana da Christian Giang.



INFORMATIK-BIBER SCHWEIZ
CASTOR INFORMATIQUE SUISSE
CASTORO INFORMATICO SVIZZERA

Il Castoro Informatico 2023 è stato organizzato dalla Società Svizzera per l'Informatica nell'Insegnamento (SSII) con il sostegno determinante della fondazione Hasler. Gli sponsor del concorso sono l'Ufficio per l'economia e il lavoro del Cantone di Zurigo e UBS.

Questo quaderno è stato creato il 10 gennaio 2024 con il sistema per la preparazione di testi \LaTeX . Ringraziamo Christian Datzko per lo sviluppo del sistema di generazione dei testi che ha permesso di generare le 36 versioni di questa brochure (divise per lingua e livello scolastico). Il sistema è stato riprogrammato basandosi sul sistema precedente, sviluppato nel 2014 assieme a Ivo Blöchliger. Ringraziamo Jean-Philippe Pellet per lo sviluppo del sistema `bebras`, utilizzato dal 2020 per la conversione dei documenti sorgente dai formati Markdown e YAML.

Nota: Tutti i link sono stati verificati l'01.12.2023.



I quesiti sono distribuiti con Licenza Creative Commons Attribuzione – Non commerciale – Condividi allo stesso modo 4.0 Internazionale. Gli autori sono elencati a pagina 17.



Premessa

Il concorso del «Castoro Informatico», presente già da diversi anni in molti paesi europei, ha l'obiettivo di destare l'interesse per l'informatica nei bambini e nei ragazzi. In Svizzera il concorso è organizzato in tedesco, francese e italiano dalla Società Svizzera per l'Informatica nell'Insegnamento (SSII), con il sostegno della fondazione Hasler.

Il Castoro Informatico è il partner svizzero del Concorso «Bebras International Contest on Informatics and Computer Fluency» (<https://www.bebas.org/>), situato in Lituania.

Il concorso si è tenuto per la prima volta in Svizzera nel 2010. Nel 2012 l'offerta è stata ampliata con la categoria del «Piccolo Castoro» (3^o e 4^o anno scolastico).

Il Castoro Informatico incoraggia gli alunni ad approfondire la conoscenza dell'informatica: esso vuole destare interesse per la materia e contribuire a eliminare le paure che sorgono nei suoi confronti. Il concorso non richiede alcuna conoscenza informatica pregressa, se non la capacità di «navigare» in internet poiché viene svolto online. Per rispondere alle domande sono necessari sia un pensiero logico e strutturato che la fantasia. I quesiti sono pensati in modo da incoraggiare l'utilizzo dell'informatica anche al di fuori del concorso.

Nel 2023 il Castoro Informatico della Svizzera è stato proposto a cinque differenti categorie d'età, suddivise in base all'anno scolastico:

- 3^o e 4^o anno scolastico («Piccolo Castoro»)
- 5^o e 6^o anno scolastico
- 7^o e 8^o anno scolastico
- 9^o e 10^o anno scolastico
- 11^o al 13^o anno scolastico

Ogni categoria aveva quesiti classificati in tre livelli di difficoltà: facile, medio e difficile. Alla categoria del 3^o e 4^o anno scolastico sono stati assegnati 9 quesiti da risolvere, di cui 3 facili, 3 medi e 3 difficili. Alla categoria del 5^o e 6^o anno scolastico sono stati assegnati 12 quesiti, suddivisi in 4 facili, 4 medi e 4 difficili. Ogni altra categoria ha ricevuto invece 15 quesiti da risolvere, di cui 5 facili, 5 medi e 5 difficili.

Per ogni risposta corretta sono stati assegnati dei punti, mentre per ogni risposta sbagliata sono stati detratti. In caso di mancata risposta il punteggio è rimasto inalterato. Il numero di punti assegnati o detratti dipende dal grado di difficoltà del quesito:

	Facile	Medio	Difficile
Risposta corretta	6 punti	9 punti	12 punti
Risposta sbagliata	-2 punti	-3 punti	-4 punti

Il sistema internazionale utilizzato per l'assegnazione dei punti limita l'eventualità che il partecipante possa ottenere buoni risultati scegliendo le risposte in modo casuale.



Ogni partecipante inizia con un punteggio pari a 45 punti (risp., Piccolo Castoro: 27 punti, 5^o e 6^o anno scolastico: 36 punti).

Il punteggio massimo totalizzabile era dunque pari a 180 punti (risp., Piccolo castoro: 108 punti, 5^o e 6^o anno scolastico: 144 punti), mentre quello minimo era di 0 punti.

In molti quesiti le risposte possibili sono state distribuite sullo schermo con una sequenza casuale. Lo stesso quesito è stato proposto in più categorie d'età. Questi quesiti presentavano livelli di difficoltà diversi nei vari gruppi di età.

Alcuni quesiti sono indicati come «bonus» per determinate categorie di età: non contano nel totale dei punti, ma vengono utilizzati come spareggio per punteggi identici in caso di qualificazione agli eventuali turni successivi.

Per ulteriori informazioni:

SVIA-SSIE-SSII Società Svizzera per l'Informatica nell'Insegnamento
Castoro Informatico
Masiar Babazadeh

<https://www.castoro-informatico.ch/it/kontaktieren/>
<https://www.castoro-informatico.ch/>



Indice

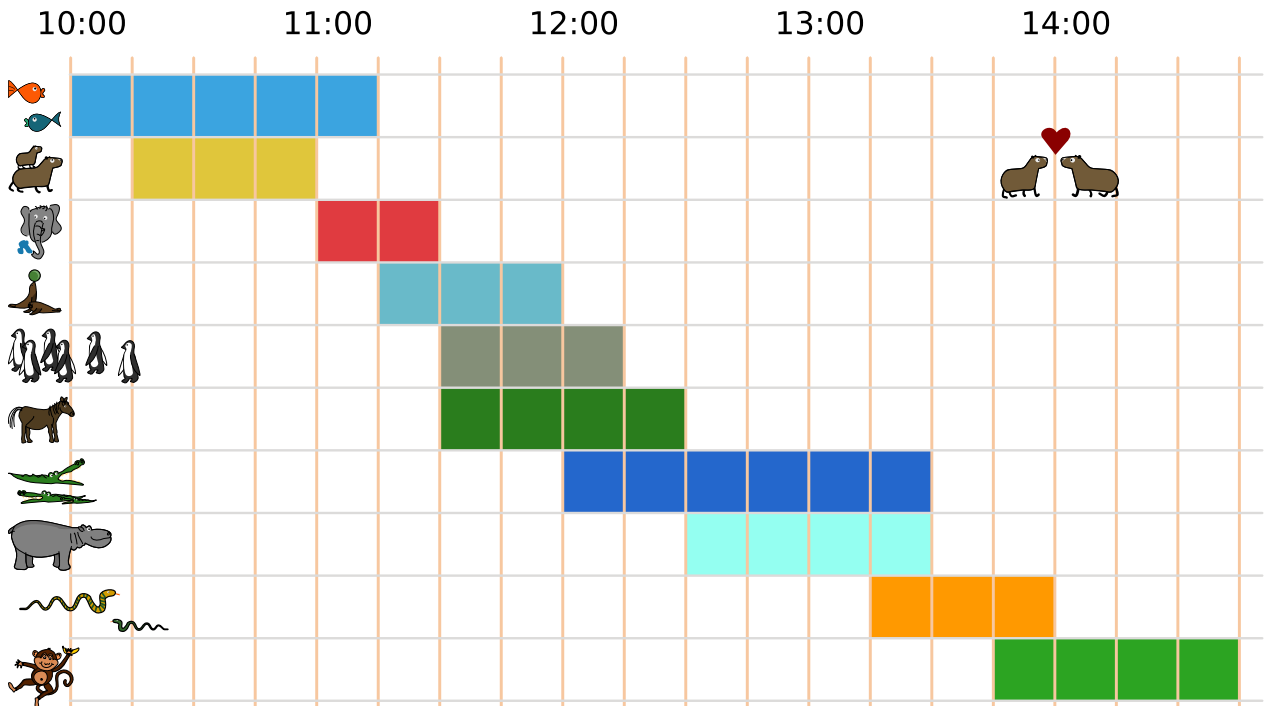
Hanno collaborato al Castoro Informatico 2023	i
Premessa	iii
Indice	v
1. Divertimento allo zoo	1
2. L'Ombrello di Anna	2
3. Bouquet	3
4. Foto	4
5. L'albero magico	5
6. La casa dei sogni di Karla	6
7. Ricca	7
8. La Segheria di Timea	8
9. Orto di Lisa	9
10. Scarico del treno	10
11. Il villaggio di Martina	11
12. Più caldo, più freddo	12
13. Fontana	13
14. Ogham	14
15. Escursioni	15
16. Le commissioni di Emma	16
A. Autori dei quesiti	17
B. Partner accademici	19
C. Sponsoring	20
D. Ulteriori offerte	21



1. Divertimento allo zoo

Oggi Anja è allo zoo. Vuole visitare il maggior numero possibile di spettacoli diversi.

Ecco un piano con tutti gli spettacoli. Ad esempio, dall'immagine possiamo vedere che lo spettacolo delle scimmie inizia alle 13:45 e termina alle 14:45.



Anja assiste sempre a uno spettacolo dall'inizio alla fine. Puoi aiutare Anja?

Scegli il maggior numero possibile di spettacoli a cui Anja può partecipare uno dopo l'altro.



2. L'Ombrello di Anna



Questo è l'ombrello di Anna:

Una delle quattro immagini mostra l'ombrello di Anna. Quale?



A)



B)




C)






D)





3. Bouquet



Florian vende mazzi di fiori. Florian lega ogni bouquet secondo queste istruzioni:

1. Prendere un primo fiore dal secchio A.
2. Se il primo fiore è una margherita , prendere un'altra margherita .
3. Poi prendere un rametto  dal secchio B fino a formare un bouquet di 4 parti. Fatto!

Aiuta Florian: segui le istruzioni e scegli fiori e rami per un bouquet.






4. Foto



Il castoro ha scattato una foto.


Di quale delle quattro foto si tratta?



A)



B)



C)






D)




5. L'albero magico

Ben ha un albero di mele speciale in giardino:

- Se un uccello  atterra sull'albero, crescono immediatamente due nuove mele.
- Se uno scoiattolo  si arrampica sull'albero, cade una mela. Se non c'è nessuna mela appesa all'albero, non succede nulla.
- Se un serpente  visita l'albero, tutte le mele scompaiono immediatamente.

Questa mattina ci sono 25 mele appese all'albero. Poi alcuni animali visitano l'albero uno dopo l'altro, per ultimo uno scoiattolo. Ben ha scritto esattamente il loro ordine:



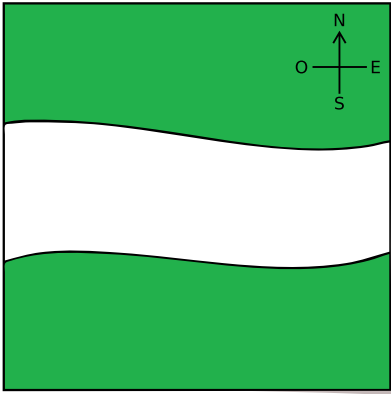
Quante mele sono rimaste appese all'albero?

- A) 3 mele
- B) 7 mele
- C) 17 mele
- D) 31 mele

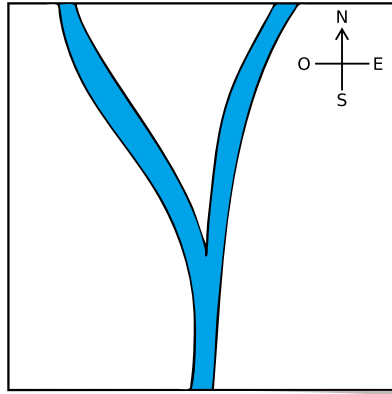


6. La casa dei sogni di Karla

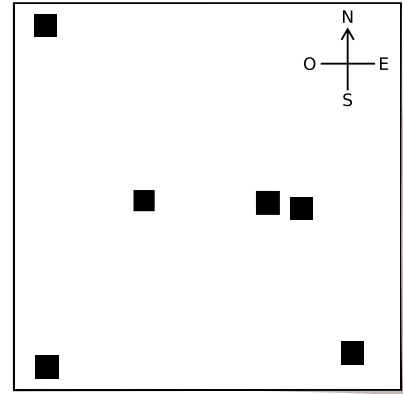
Karla ha tre mappe che mostrano esattamente la stessa area. Una mappa mostra le foreste, una i fiumi e una le case della zona. La casa dei sogni di Karla si trova nella foresta e vicino a un fiume.



Mappa delle foreste



Mappa dei fiumi



Mappa delle case

Qual è la casa dei sogni di Karla?



7. Ricca

Evelyn ha cinque foto dei Ricca. Descrive con delle frasi il loro aspetto.



La sua amica Lydia le mostra una sesta foto di una Ricca:



Ora Evelyn si rende conto di una cosa: una delle sue frasi sui Ricca è sicuramente sbagliata.

Quale di queste frasi sui Ricca è sicuramente sbagliata?

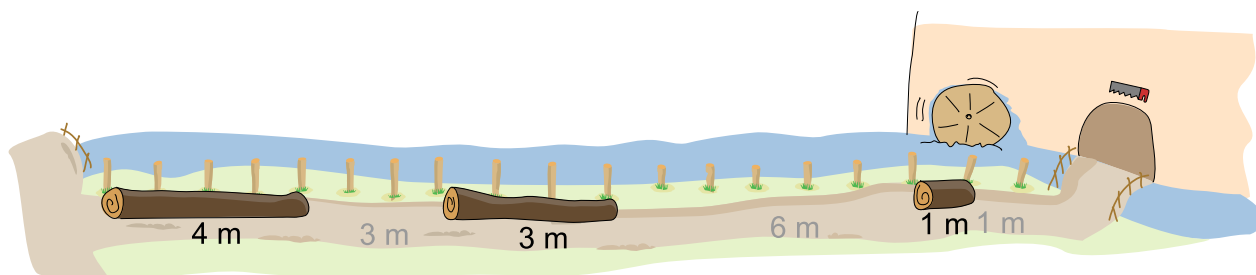
- A) Tutti i Ricca hanno i denti.
- B) Alcuni Ricca hanno le ali.
- C) I Ricca hanno o corna o tre occhi, ma mai corna e tre occhi.
- D) Se i Ricca hanno esattamente due braccia, allora hanno anche esattamente due gambe.



8. La Segheria di Timea

La castora Timea taglia tronchi di diverse lunghezze e poi li vende. Non appena taglia un tronco, lo posa sul sentiero lungo 18 metri. Timea osserva la seguente regola: colloca il tronco nel primo spazio da sinistra nel quale il tronco si inserisce.

Vende alcuni tronchi. Dopo di che, ci sono tre spazi vuoti sul sentiero:



Ora Timea vuole tagliare quattro tronchi di lunghezza pari a 1, 2, 3 e 4 metri.

In quale ordine Timea deve tagliare i tronchi per poterli inserire tutti e quattro negli spazi vuoti?


① ② ③ ④

2 m

1 m

3 m


4 m







9. Orto di Lisa

Lisa crea un orto. Vuole piantare cinque ortaggi diversi. Alcuni ortaggi vanno d'accordo tra loro ✓, altri no ⚡:



Lisa ha diviso l'orto in aree esagonali. Vuole piantare esattamente un ortaggio in ogni area.

Lisa ha già piantato porri  in tre aree.



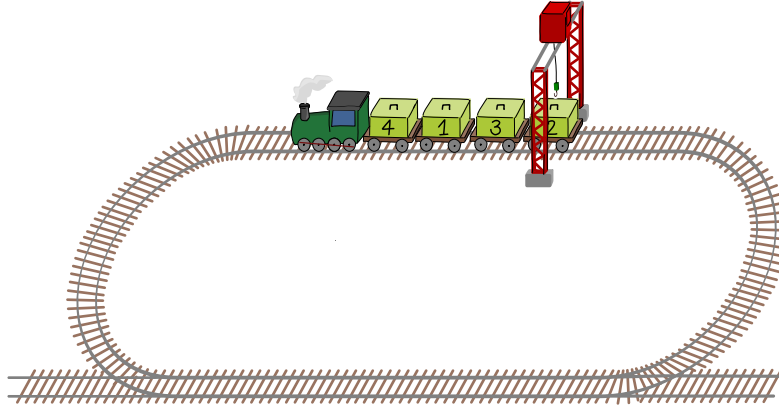
Quando si pianta, Lisa osserva la seguente regola: gli ortaggi che non vanno d'accordo non devono essere piantati in zone che si toccano.

Pianta tutte le aree ancora libere seguendo la regola di Lisa!



10. Scarico del treno

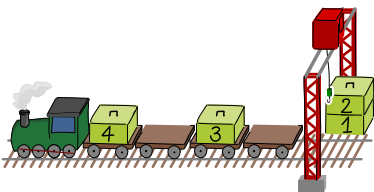
Un treno traina vagoni con casse numerate. La gru si trova in una posizione fissa e scarica le casse. Per scaricare una cassa, questa deve essere posizionata direttamente sotto la gru.



La gru deve scaricare le casse, partendo da 1, in ordine crescente. Il treno può andare solo in avanti. Quando è passato sotto la gru, deve fare un giro per poter scaricare altre casse.

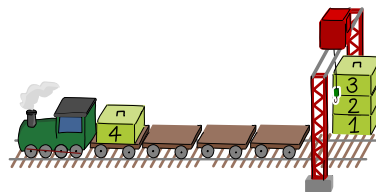
In questo modo la gru scarica le casse 1, 2, 3 e 4 nell'ordine corretto:

Turno 1:



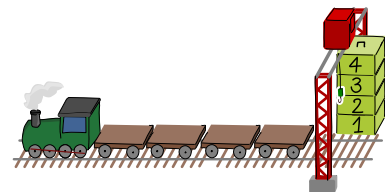
Salta la cassa 4, scarica la cassa 1, salta la cassa 3 e scarica la cassa 2.

Turno 2:



Salta la cassa 4 e scarica la cassa 3.

Turno 3:



Scarica la cassa 4.

Quindi il treno deve percorrere tre giri affinché tutte le casse siano scaricate nell'ordine corretto.

Quanti turni sono necessari per scaricare il seguente treno?



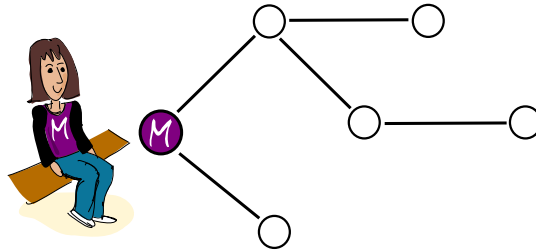
- A) 1 turno E) 5 turni I) 9 turni
- B) 2 turni F) 6 turni J) 10 turni
- C) 3 turni G) 7 turni
- D) 4 turni H) 8 turni



11. Il villaggio di Martina

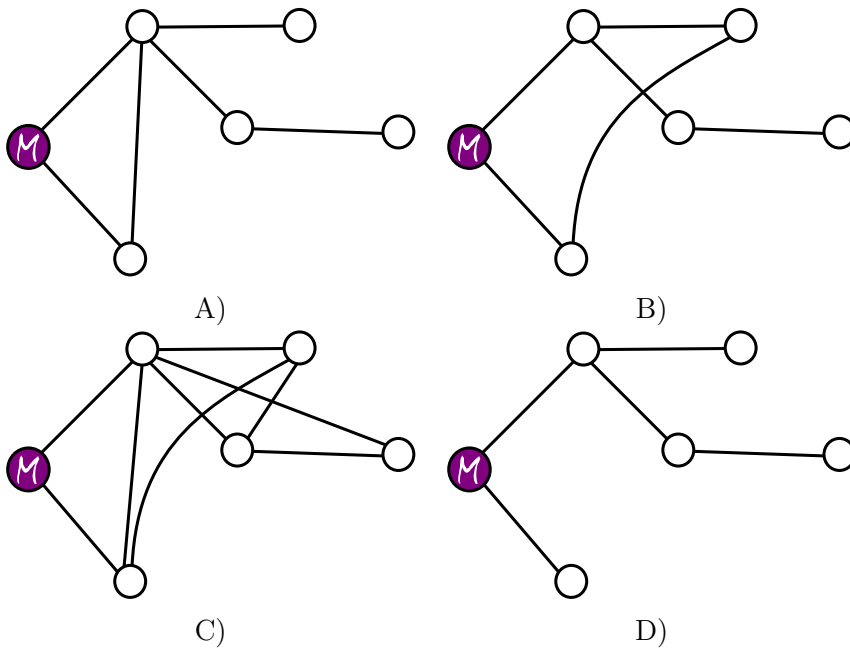
Nel villaggio di Martina ci sono sei case. Ci sono anche sentieri che possono essere utilizzati per camminare da una casa all'altra. Martina ha bisogno della stessa quantità di tempo per tutti questi percorsi.

Martina ha disegnato una mappa speciale del villaggio. In essa ha disegnato i percorsi esatti che può utilizzare per raggiungere le altre case.



C'è anche una vera e propria mappa del villaggio, con tutti i sentieri.

Quale di questi disegni non può essere la mappa corretta?

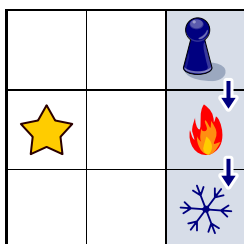




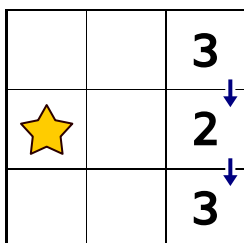
12. Più caldo, più freddo

Nina e Daniel giocano alla caccia al tesoro. Su una tavola con quadrati, Nina seleziona un quadrato e lo tiene a mente. Il tesoro è nascosto lì.

Daniel sceglie un campo di partenza. Da lì, sposta il suo pezzo da gioco di uno spazio alla volta: a sinistra, a destra, in alto o in basso.



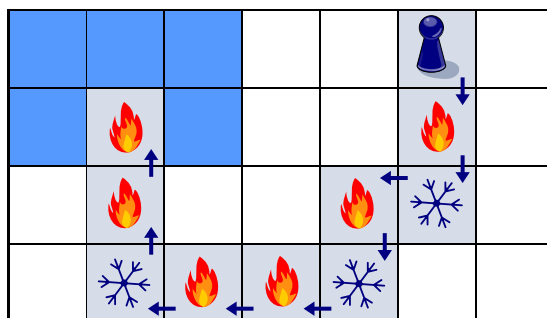
Al primo tentativo, prendono un piccolo tabellone di gioco. Nina nasconde il tesoro nella casella con la stella . Daniel inizia in alto a destra e fa due passi lungo le frecce. Dopo ogni passo, Nina dice se Daniel è più vicino al tesoro o più lontano dal tesoro rispetto a prima del passo.



L'immagine a destra mostra le distanze di Daniel dal tesoro. La distanza dal tesoro è il minor numero di passi che Daniel potrebbe attualmente compiere per raggiungere il tesoro.

Adesso prendono una tavola più grande. Nina nasconde il tesoro in uno dei campi contrassegnati in blu. L'immagine mostra nuovamente i passi di Daniel e ciò che Nina dice dopo ogni passo.

Dove è nascosto il tesoro?




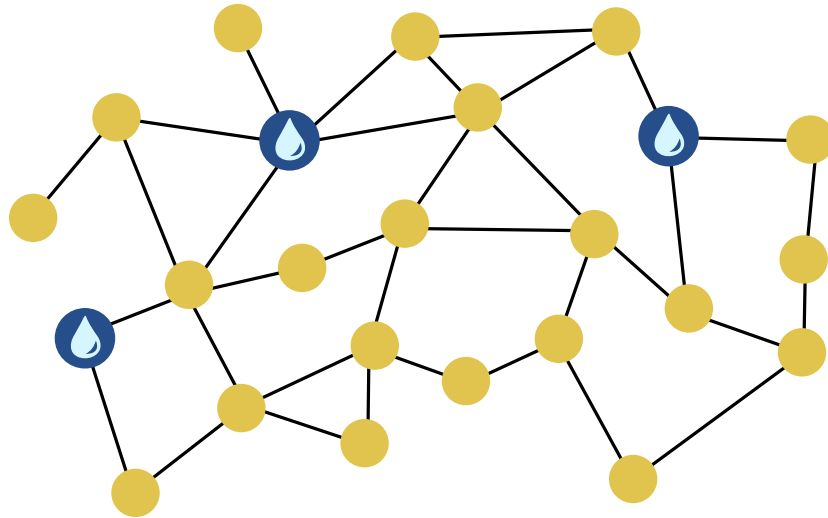


13. Fontana

L'estate è calda in città. Per questo il sindaco ha fatto installare delle fontane con acqua potabile.

Le fontane devono essere posizionate in modo tale che per raggiungerle non si debbano percorrere più di due segmenti di strada da ogni angolo di strada. Solo in quel caso il sindaco sarà soddisfatto.

Ecco una mappa della città. Le linee sono segmenti di strada e i punti sono angoli di strada. In tre angoli ci sono già delle fontane .



Colloca un'altra fontana in modo che il sindaco sia soddisfatto.

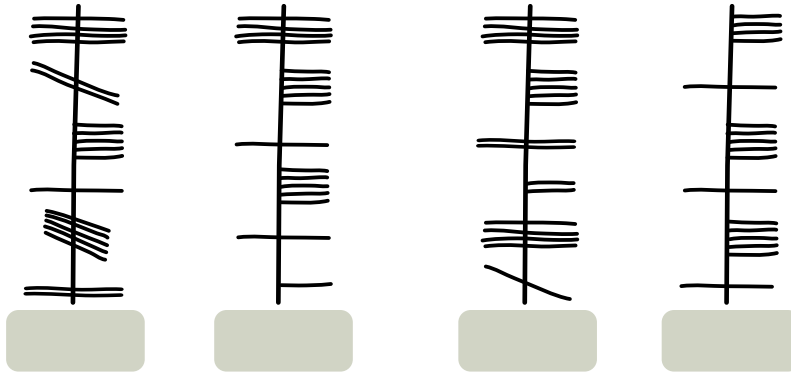


14. Ogham

Sue conosce l'antico alfabeto irlandese Ogham. Ogni lettera è composta da uno o più tratti disposti su una lunga linea. Due lettere consecutive sono separate da uno spazio.

Sue usa l'Ogham come codice. Codifica quattro parole (i suoi tipi di frutta preferiti in tedesco): ANANAS, BANANE, MELONE e ORANGE.

Quale parola corrisponde a quale codice Ogham?



ANANAS




BANANE

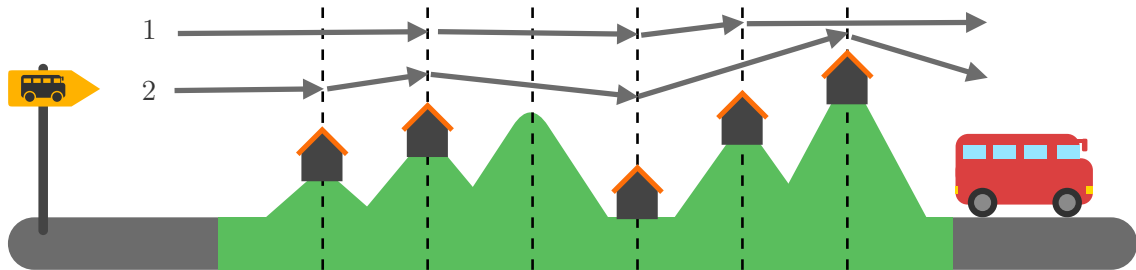
MELONE

ORANGE



15. Escursioni

A Mia piacciono le vacanze a piedi, in cui soggiorna ogni notte in un posto diverso. Per la sua prossima vacanza, Mia ha una mappa della regione. La mappa mostra il punto di partenza di Mia , la sua destinazione \cong  e tutti i luoghi in cui può soggiornare .



Mia ha diviso la regione in sezioni con linee tratteggiate. Può percorrere solo uno o due tratti alla volta in un giorno. Ha già messo sulla mappa due diverse passeggiate che può fare:

- L'escursione 1 prevede tre soggiorni
- L'escursione 2 prevede quattro soggiorni.

Mia può però fare altre escursioni.



Quante escursioni diverse può fare Mia in totale? Conta anche le escursioni 1 e 2.

- A) 2 escursioni
- B) 3 escursioni
- C) 4 escursioni
- D) 5 escursioni
- E) 6 escursioni
- F) 7 escursioni
- G) 8 escursioni



16. Le commissioni di Emma

Emma è a casa . Deve svolgere tre compiti e tornare:

- ritirare un pacco al chiosco 
- comprare frutta al mercato  e
- Andare in farmacia  per prendere una medicina.

Emma non sa quanto tempo impiegherà in ogni negozio. Ma il viaggio dovrebbe essere il più breve possibile.

Emma ha scritto su una mappa quanti minuti dedicherà all'attività di spostamento tra le singole località della città.

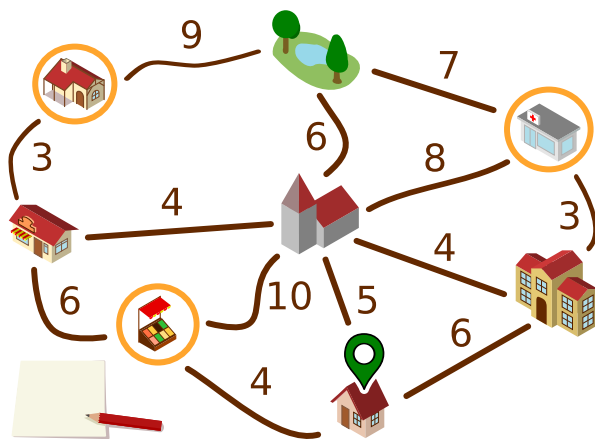
Ha anche segnato sulla planimetria il percorso che sta facendo.

Emma ha bisogno in questo caso di un totale di $6 + 3 + 7 + 9 + 3 + 6 + 4 = 38$ minuti per completare il percorso.




Emma si chiede se si può essere ancora più veloci. Forse è utile percorrere alcune strade più di una volta?


Determina il percorso più breve che Emma può intraprendere per completare i suoi tre compiti.






A. Autori dei quesiti

 Somayah Albaradei

 Laila Alharthi

 Aldrich Ellis Catapang Asuncion

 Leonardo Barichello

 Liam Baumann

 Wilfried Baumann

 Javier Bilbao


 Diego César

 Sarah Chan


 Marios Omar Choudary


 Eimear Colreavy

 Kris Coolsaet

 Valentina Dagiene

 Darija Dasović


 Christian Datzko

 Justina Dauksaite

 Nora A. Escherle

 Gerald Futschek

 Bence Gaál

 Emily Gates


 Christian Giang

 Juan Gutiérrez

 Josefine Hiebler


 Mathias Hiron

 Alisher Ikramov

 Hyun-seok Jeon

 Merel Kämper

 David Khachatryan

 Vaidotas Kinčius

 Mhairi King

 Jia-Ling Koh

 Sophie Koh

 V́ictor Koleszar


 Taina Lehtimäki

 Angélica Herrera Loyo

 Carlos Luna

 Yong Mao

 Yoshiaki Matsuzawa

 Madhavan Mukund

 Natalia Natalia

 Tom Naughton

 Marika Parviainen

 Jean-Philippe Pellet

 Zsuzsa Pluhár

 Wolfgang Pohl

 Estela Ramić

 Chris Roffey

 Kirsten Schlüter

 Eljakim Schrijvers

 Giovanni Serafini

 Alieke Stijf

 Marianne Thut




 Monika Tomcsányiová

 Michael Weigend

 Svetlana Unković

 Manuel Wettstein

 Florentina Voboril

 Kyra Willekes



B. Partner accademici



<http://www.abz.inf.ethz.ch/>

Ausbildungs- und Beratungszentrum für Informatikunterricht
der ETH Zürich.



<http://www.hepl.ch/>

Haute école pédagogique du canton de Vaud

Scuola universitaria professionale
della Svizzera italiana

<http://www.supsi.ch/home/supsi.html>

La Scuola universitaria professionale della Svizzera italiana
(SUPSI)

SUPSI



C. Sponsoring

HASLERSTIFTUNG

<http://www.haslerstiftung.ch/>



Kanton Zürich
Volkswirtschaftsdirektion
Amt für Wirtschaft und Arbeit

Standortförderung beim Amt für Wirtschaft und Arbeit Kanton Zürich



UBS

<http://www.ubs.com/>



<http://www.verkehrshaus.ch/>

Musée des transports, Lucerne



i-factory (Musée des transports, Lucerne)

senarclens
leu+partner
strategische kommunikation

<http://senarclens.com/>

Senarclens Leu & Partner



D. Ulteriori offerte



La Fiamma IT: <https://it-feuer.ch/it/>

In Svizzera, numerose organizzazioni si impegnano per la formazione delle giovani leve nell'ambito dell'informatica. L'iniziativa «La Fiamma IT» vuole unire queste forze e contribuire insieme a diffondere il tema nell'opinione pubblica in tutta la Svizzera. La fiamma IT presenta numerose offerte rivolte sia ai docenti che agli studenti.



CoetryLab: <https://www.coetry-lab.org/>

Il team del CoetryLab (Zürich) vuole dare ai bambini e ai giovani l'accesso alla programmazione e ai media. Il Coetry-Lab vuole essere il luogo di sperimentazione e progettazione extrascolastica e aprire il mondo del coding a tutti. Le loro idee possono essere realizzate in modo creativo e siti web, applicazioni, giochi e molto altro possono essere sviluppati in team o da soli.



Roteco: <https://www.roteco.ch/it/>

Il progetto Roteco consiste in una comunità di insegnanti desiderosi di preparare gli allievi per la società digitale. In questa comunità gli insegnanti trovano, sviluppano e si scambiano attività didattiche inerenti la robotica educativa e più in generale le scienze informatiche pronte da essere utilizzate in classe e vengono informati con le ultime novità e corsi in questi campi.

010100110101011001001001
 010000010010110101010011
 010100110100100101000101
 001011010101001101010011
 010010010100100100100001

SS ! I

www.svia-ssie-ssii.ch
 schweizerischer vereinfürinformatikind
 erausbildung//sociétésuissepourl'infor
 matique dans l'enseignement//societàsviz
 zera per l'informaticanell'insegnamento

Diventate membri della SSII <http://svia-ssie-ssii.ch/verein/mitgliedschaft/> sostenendo in questo modo il Castoro Informatico.

Chi insegna presso una scuola dell'obbligo, media superiore, professionale o universitaria in Svizzera può diventare membro ordinario della SSII.

Scuole, associazioni o altre organizzazioni possono essere ammesse come membro collettivo.