



**INFORMATIK-BIBER SCHWEIZ
CASTOR INFORMATIQUE SUISSE
CASTORO INFORMATICO SVIZZERA**

Quesiti e soluzioni 2014 7° e 8° anno scolastico

<http://www.castoro-informatico.ch/>

A cura di

Andrea Adamoli (SSII), Ivo Blöchliger (SSII), Christian Datzko (SSII)
Hanspeter Erni (SSII), Jacqueline Peter (SSII)

010100110101011001001001
010000010010110101010011
010100110100100101000101
001011010101001101010011
010010010100100100100001

SSII

www.svia-ssie-ssii.ch
schweizerischervereinfürinformatikind
erausbildung//sociétésuisse del'inform
atiquedansl'enseignement//societàsviz
zera perl'informaticanell'insegnamento



Hanno collaborato al Castoro Informatico 2014

Andrea Adamoli, Ivo Blöchliger, Brice Canvel, Christian Datzko, Hanspeter Erni, Beate Kuhnt, Jacqueline Peter, Marie-Thérèse Rey, Beat Trachsler

Un particolare ringraziamento va a:

Valentina Dagiene: Bebras.org

Hans-Werner Hein, Wolfgang Pohl: Bundeswettbewerb Informatik DE

Eljakim Schrijvers, Paul Hooijenga: Eljakim Information Technology b.v

Roman Hartmann (hartmannGestaltung: Flyer Castoro Informatico Svizzera)

Christoph Frei (Chragokyberneticks: Castoro Informatico Svizzera)

Pamela Aeschlimann, Andreas Hieber, Aram Loosmann (Lernetz.ch: nuovo sito del Castoro Informatico)

Andrea Leu, Maggie Winter und Brigitte Maurer, Senarclens Leu + Partner

L'edizione dei quesiti in lingua tedesca è stata utilizzata anche in Germania e in Austria.

Su mandato della SSII, la traduzione francese è stata curata da Maximus Traductions König mentre quella italiana da Salvatore Coviello.



INFORMATIK-BIBER SCHWEIZ
CASTOR INFORMATIQUE SUISSE
CASTORO INFORMATICO SVIZZERA

Il Castoro Informatico 2014 è stato organizzato dalla Società Svizzera per l'Informatica nell'Insegnamento SSII.

HASLERSTIFTUNG

Il Castoro Informatico è un progetto della SSII con il prezioso sostegno della fondazione Hasler.

Questo quaderno è stato creato il 13 novembre 2014 col sistema per la preparazione di testi \LaTeX . <http://it.wikipedia.org/wiki/LaTeX>

Nota: Tutti i link sono stati verificati l'8.11.14.



Premessa

Il concorso del «Castoro Informatico», presente già da diversi anni in molti paesi europei, ha l'obiettivo di destare l'interesse per l'informatica nei bambini e nei ragazzi. In Svizzera il concorso è organizzato in tedesco, francese e italiano dalla Società Svizzera per l'Informatica nell'Insegnamento (SSII), con il sostegno della fondazione Hasler nell'ambito del programma di promozione «FIT in IT».

Il Castoro Informatico è il partner svizzero del Concorso «Bebras International Contest on Informatics and Computer Fluency» (<http://www.bebas.org/>), situato in Lituania.

Il concorso si è tenuto per la prima volta in Svizzera nel 2010.

Il «Castoro Informatico» incoraggia gli alunni ad approfondire la conoscenza dell'Informatica: esso vuole destare interesse per la materia e contribuire a eliminare le paure che sorgono nei suoi confronti. Il concorso non richiede nessuna conoscenza informatica pregressa, se non la capacità di «navigare» in Internet poiché il concorso si svolge online. Per rispondere alle 18 domande a scelta multipla sono necessari sia un pensiero logico e strutturato che la fantasia. I quesiti sono pensati in modo da incoraggiare l'utilizzo dell'informatica anche al di fuori del concorso.

Nel 2014 il Castoro Informatico della Svizzera è stato proposto a cinque differenti categorie d'età, suddivise in base all'anno scolastico:

- 3° e 4° anno scolastico («Piccolo Castoro»)
- 5° e 6° anno scolastico
- 7° e 8° anno scolastico
- 9° e 10° anno scolastico
- 11° al 13° anno scolastico

Gli alunni iscritti al 3° e 4° anno scolastico hanno dovuto risolvere 10 quesiti (2 facili, 4 medi e 4 difficili).

A ogni altra categoria d'età sono stati assegnati 18 quesiti da risolvere, suddivisi in gruppi di sei in base a tre livelli di difficoltà: facile, medio e difficile. Per ogni risposta corretta sono stati assegnati dei punti, mentre per ogni risposta sbagliata sono stati detratti. In caso di mancata risposta il punteggio è rimasto inalterato. Il numero di punti assegnati o detratti dipende dal grado di difficoltà del quesito:

	Facile	Medio	Difficile
Risposta corretta	6 punti	9 punti	12 punti
Risposta sbagliata	-2 punti	-3 punti	-4 punti



Il sistema internazionale utilizzato per l'assegnazione dei punti limita l'eventualità che il partecipante possa indovinare la risposta corretta.

Ogni partecipante aveva un punteggio iniziale di 54 punti (Piccolo Castoro: 32).

Il punteggio massimo totalizzabile era pari a 216 punti (Piccolo castoro: 125) i mentre quello minimo era di 0 punti.

In molti quesiti le risposte possibili sono state distribuite sullo schermo con una sequenza casuale. Lo stesso quesito è stato proposto a più categorie d'età.

Für weitere Informationen:


SVIA-SSIE-SSII Società Svizzera per l'Informatica nell'Insegnamento

Castoro Informatico

Castoro Informatico

castoro@castoro-informatico.ch

<http://www.castoro-informatico.ch/>

 <https://www.facebook.com/informatikbiberch>



Indice

Hanno collaborato al Castoro Informatico 2014	ii
Premessa	iii
Indice	v
Quesiti	1
1 Quale foto? 3/4 medio, 5/6 medio, 7/8 facile	1
2 Spazzolini da denti 3/4 difficile, 5/6 medio, 7/8 facile	3
3 Suanpan 3/4 difficile, 5/6 medio, 7/8 facile	5
4 Controcorrente 5/6 medio, 7/8 facile	7
5 Rete radio nel villaggio 5/6 medio, 7/8 facile	9
6 Vetro oscurato 5/6 difficile, 7/8 facile	11
7 Caricare le Lisa 5/6 difficile, 7/8 medio, 9/10 medio	13
8 Drawbot 5/6 difficile, 7/8 medio	15
9 Lungo il bordo 5/6 difficile, 7/8 medio	18
10 Labirinto cosmico 7/8 medio, 9/10 facile, 11-13 facile	20
11 Hotel Comfort 7/8 medio, 9/10 facile	22
12 Trova il mostro 7/8 medio, 9/10 facile	24
13 Ponti costosi 7/8 difficile, 9/10 medio, 11-13 facile	26
14 Composizione di tronchi 7/8 difficile, 9/10 medio, 11-13 facile	28
15 La piastrella sbagliata 7/8 difficile, 9/10 medio, 11-13 facile	30
16 Cerimonia 7/8 difficile, 9/10 medio, 11-13 facile	32
17 Brezel 7/8 difficile, 9/10 medio, 11-13 facile	34
18 Castoro in buca 7/8 difficile, 9/10 medio, 11-13 medio	36
19 Rete a prova di tempesta 7/8 difficile, 9/10 difficile, 11-13 medio	38
Autori dei quesiti	40
Sponsoring: concorso 2014	41
Ulteriori offerte	43



1 Quale foto?

Johnny ha scattato otto foto e ne vuole regalare una a Bella. Prima però deve scoprire quale di queste foto può piacerle.

Comincia quindi a farle alcune domande:

«Ti piacerebbe una foto con un ombrellone?» - «Sì!»

«Ti piacerebbe una foto dove indosso un berretto o un cappello?» - «No!»

«Ti piacerebbe una foto dove si vede il mare?» - «Sì!»

Quale di queste foto piace a Bella?


A



B



C



D



E



F



G



H



Soluzione

H è la risposta corretta

Le foto B, E, G e H corrispondono alla prima risposta di Bella.

Le foto C, D, G e H corrispondono alla seconda risposta di Bella.

Le foto A, B, D e H corrispondono alla terza risposta di Bella.

Solo la foto H soddisfa tutte le risposte.

Questa è l'informatica!

Per salvare o elaborare i dati, gli odierni computer utilizzano i bit che possono assumere solo uno dei valori possibili: «on» oppure «off» (oppure «vero» o «falso», «sì» o «no», 1 o 0). Nel quesito la foto che piace a Bella può essere definita con tre bit: uno per ogni domanda posta



da Johnny. Le risposte di Bella significano che il primo bit è «on» E il secondo è «off» (cioè «NON on»), E il terzo è «on». In informatica è noto che le operazioni logiche E (in inglese, AND) e NON (in inglese NOT) sono sufficienti per commutare in qualunque modo il valore dei bit in altri valori. Tutto quello che fanno i computer può essere realizzato unicamente con queste semplici operazioni: per esempio l'identificazione di un oggetto (in questo caso una foto) da una raccolta di dati (le otto foto scattate da Johnny).


Siti web e parole chiave

Bit, Information retrieval, Connettivo logico, Information representation (english)

- <http://it.wikipedia.org/wiki/Bit>



2 Spazzolini da denti



Ann Ben Chad Dan Eve

«Non così velocemente!» dice mamma Castoro. «Eve e Chad, scambiatevi gli spazzolini! Anche i vostri, Ann e Chad!» E qui finiscono le informazioni.


Quale coppia di castori deve ancora scambiarsi gli spazzolini per fare in modo che ognuno abbia quello di grandezza giusta?

- A. Ben e Chad
- B. Ben e Dan
- C. Ann e Eve
- D. Nessuna

Soluzione


B è la risposta corretta.

Situazione iniziale:




Ann Ben Chad Dan Eve

«Eve e Chad, scambiatevi gli spazzolini!»



Ann Ben Chad Dan Eve

«Anche i vostri, Ann e Chad!»



Ann Ben Chad Dan Eve

Ora sono Ben e Dan a doversi scambiare gli spazzolini.

Questa è l'informatica!

I programmatori spesso sono come le mamme che fanno ordine anche se però, al posto degli spazzolini, muovono numeri nelle celle di memoria del computer. Lo scambio di dati è un'operazione basilare per la programmazione.

Spesso un gruppo di valori deve essere ordinato in base alla grandezza, salvando i numeri in una serie di celle successive. Il programma deve quindi fare in modo che il numero più piccolo sia salvato nella prima cella, il secondo più piccolo nella seconda cella fino ad arrivare a posizionare il numero più grosso nell'ultima cella. Quest'attività si può effettuare scambiando più volte tra loro il contenuto delle celle.

Siti web e parole chiave

Algoritmo di ordinamento, Algoritmi



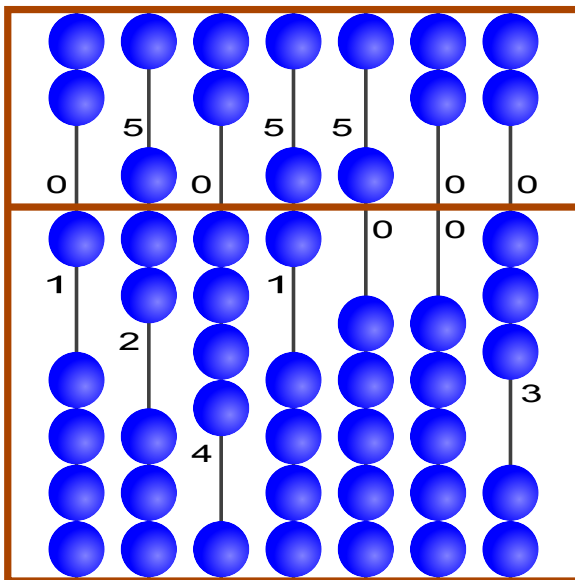
3 Suanpan

Il «Suanpan» è un tradizionale pallottoliere cinese. Con le sue palline è possibile rappresentare dei numeri impostando su ogni barra le singole cifre che compongono il numero desiderato.

Ogni pallina presente nel campo superiore ha valore «5», mentre ognuna di quelle presenti nel campo inferiore ha valore «1». Se le palline di una barra sono lontane dalla linea centrale, la cifra impostata è «0». Per impostare un'altra cifra è sufficiente spostare le palline necessarie verso il centro.

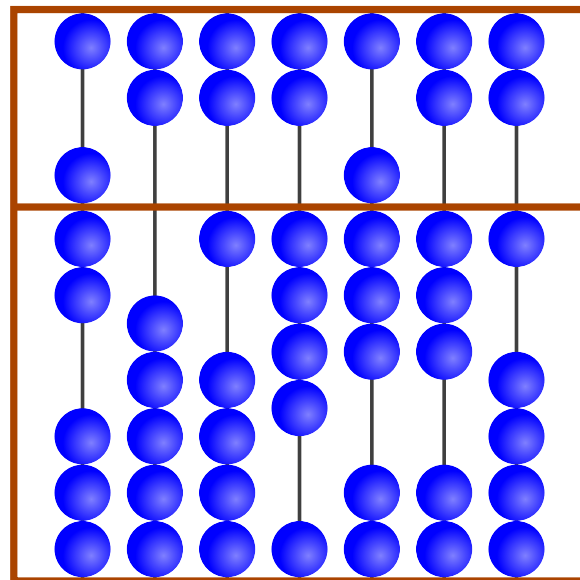
Nell'esempio sulle barre sono impostate le cifre 1, 7, 4, 6, 5, 0 e 3, che rappresentano quindi il numero 1746503.

Esempio



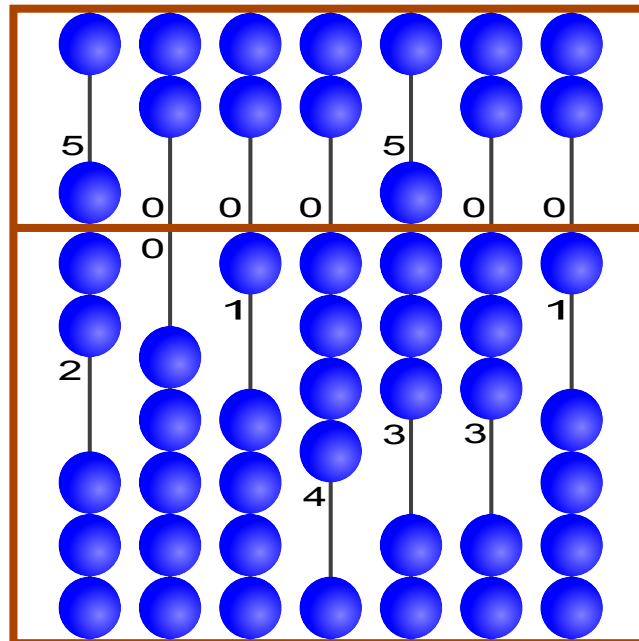
1746503

Qual è il numero impostato?



Soluzione

Così è corretto:



7 0 1 4 8 3 1

Questa è l'informatica!

Da migliaia di anni gli uomini usano degli ausili per rappresentare numeri molti grandi e per effettuare dei calcoli. Nel quesito viene presentato il Suanpan, una variante cinese del famoso abaco. I Suanpan sono utilizzati da moltissimo tempo e per molti rappresentano ancora oggi un valido strumento di calcolo. Nel 2013 il Suanpan e il suo metodo di calcolo sono stati inseriti dall'UNESCO nell'«elenco del patrimonio culturale dell'umanità».

Siti web e parole chiave




Information representation (english)

- <https://it.wikipedia.org/wiki/Suanpan>



4 Controcorrente

Per raggiungere l'arrivo, il castoro deve individuare un percorso utile nel sistema fluviale. Lungo il percorso sono presenti degli ostacoli. Per superarli, il castoro utilizza le seguenti quantità di energia:

Ostacolo	energia richiesta
	2 rami
	3 rami
	5 rami


Per accumulare l'energia sufficiente, alla partenza il castoro mangia 15 rami.

Nell'immagine che rappresenta il sistema fluviale sono indicati gli ostacoli. A, B, C, D ed E sono delle stazioni intermedie sui percorsi possibili.

Quali dei seguenti percorsi sceglierà il castoro?

Ricorda che prima di partire il castoro ha mangiato solo 15 rami!

- A Partenza → A → C → E → Arrivo
- B Partenza → A → C → E → D → Arrivo
- C Partenza → B → C → D → E → Arrivo
- D Partenza → B → C → D → Arrivo



Soluzione

C è la risposta corretta

I percorsi di seguito indicati richiedono la seguente quantità di energia:

Partenza → A → C → E → Arrivo: $2+5+5+5 = 17$

Partenza → A → C → E → D → Arrivo: $2+5+5+2+3+5 = 22$

Partenza → B → C → D → E → Arrivo: $3+3+2+2+5 = 15$; questo è l'unico percorso che non richiede un'energia maggiore di quella accumulata dal castoro.

Partenza → B → C → D → Arrivo: $3+3+2+3+5 = 16$



Questa è l'informatica!

Il sistema fluviale è una rete dove le stazioni intermedie (dalla A alla E, la Partenza e l'Arrivo) rappresentano i cosiddetti nodi, mentre l'energia necessaria per superare gli ostacoli può essere vista come la distanza tra due nodi collegati tra loro. Il castoro, quindi, deve solamente cercare il percorso più breve dalla Partenza all'Arrivo. L'algoritmo più famoso utilizzato per risolvere problemi di «cammino più breve» (shortest path) è quello di Dijkstra. Oltre a questo, esiste anche l'algoritmo di Floyd e Warshall che individua il percorso più breve tra una coppia di nodi qualsiasi. Probabilmente hai già avuto modo di vedere l'applicazione di questi algoritmi in un navigatore satellitare.

Siti web e parole chiave

Il cammino minimo, Teoria dei Grafi, Ottimizzazione

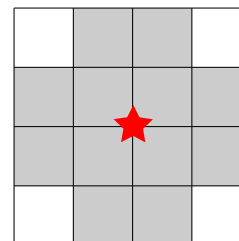
- http://it.wikipedia.org/wiki/Algoritmo_di_Dijkstra



5 Rete radio nel villaggio

Per permettere agli abitanti di un villaggio di accedere a internet, è stata realizzata una rete radio mediante varie antenne.

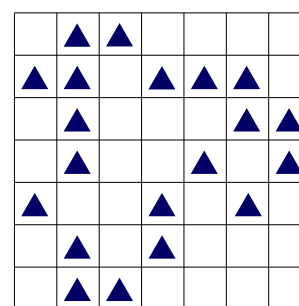
Come indicato nell'immagine, ognuna di esse ha un'area di trasmissione e ricezione ben determinata: il collegamento internet di una casa è garantito solo nei 12 quadratini adiacenti (in grigio) che circondano l'antenna (stella rossa).



Un'antenna può essere installata solo nel punto d'incontro di 2 quadratini. Le aree di trasmissione e ricezione di 2 antenne possono sovrapporsi tra loro.

L'immagine riporta la pianta del villaggio. Ogni triangolo \triangle rappresenta una casa.

Qual è il numero minimo di antenne che deve essere installato per garantire a ogni casa l'accesso a internet?

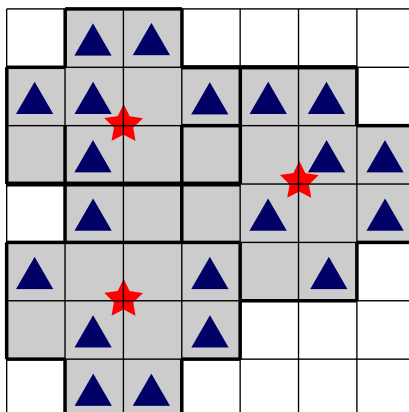
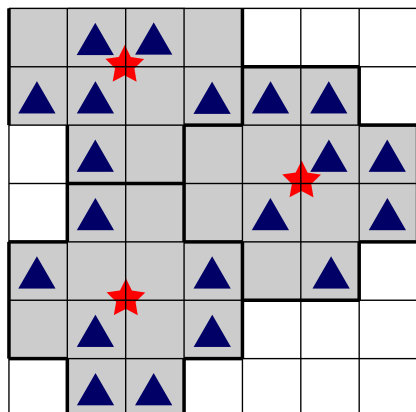


Soluzione

3 è la risposta corretta.

Con 2 antenne non è possibile estendere la rete radio a tutte le case.

Disponendo 3 antenne, in due modi diversi, è possibile ottenere una rete radio che colleghi tutte le case:





Questa è l'informatica!

L'informatica utilizza dei processi algoritmici per coprire in modo efficiente grosse superfici interdipendenti attraverso tasselli più piccoli, di forme diverse. Alcuni esempi, sono il taglio dei tessuti nell'industria dell'abbigliamento o la punzonatura di pezzi di lamiera nella costruzione di macchine. Tra le altre possibili applicazioni vi sono anche la progettazione di reti per la telefonia mobile, per la radio e la televisione digitale terrestre, e le reti WLAN per la copertura di determinati territori.

Spesso i processi che offrono la miglior soluzione possibile e che garantiscono la massima copertura non sono attuabili. Se poi la dimensione del problema aumenta, il tempo di calcolo necessario diventa rapidamente astronomico.

Siti web e parole chiave

Problema di set-covering (copertura dell'insieme), Ottimizzazione

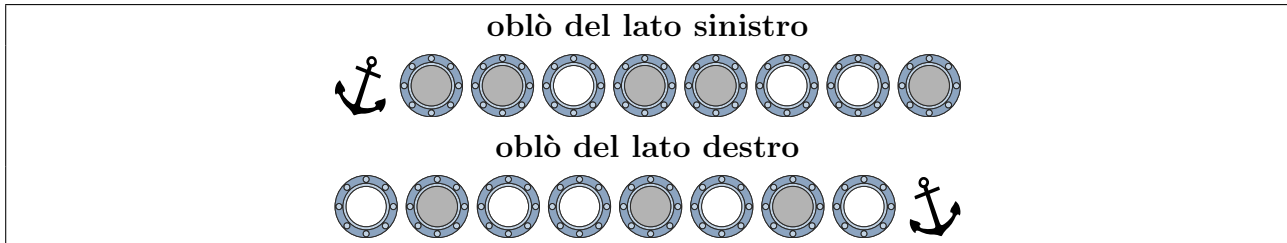


6 Vetro oscurato

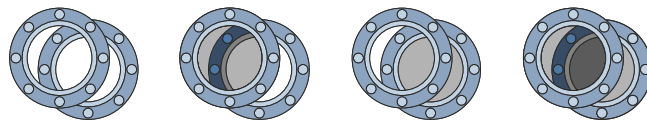
Il capitano Nero vuole sostituire i vetri degli oblò del suo yacht.

Ogni nuovo vetro può essere o trasparente o oscurato.

Il vetraio riceve il seguente ordine:

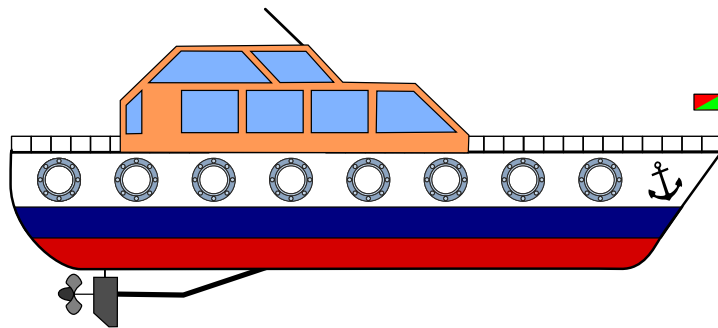


Poiché gli oblò delle due file sono posizionati l'uno davanti all'altro, è possibile vedere da una parte all'altra attraverso lo scafo dello yacht. In base all'oscuramento dei vetri la visione può essere chiara, leggermente oscurata o del tutto oscurata.



Clicca sugli oblò! Modifica le tonalità della vista attraverso gli oblò, in modo da ottenere quanto previsto dall'ordine affidato al vetraio.

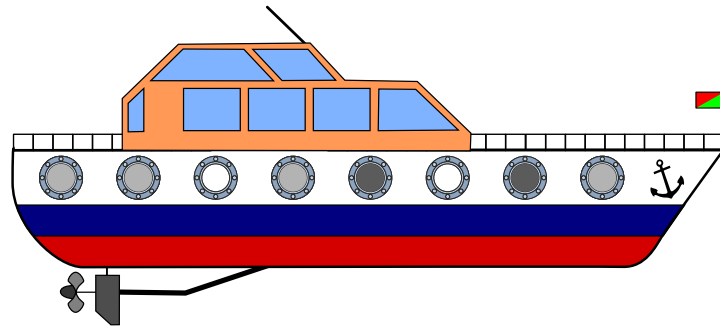
Aiuto: osserva bene la posizione delle ancore.



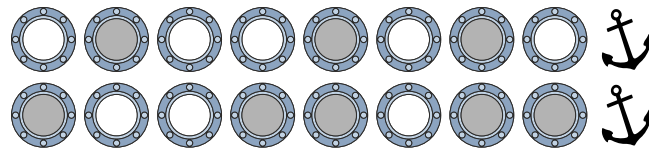
Soluzione



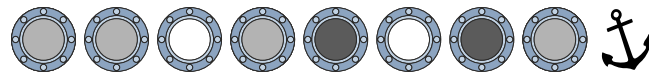
Così è corretto:



Per prima cosa si deve stabilire quali oblò si trovano l'uno di fronte all'altro. A questo proposito è possibile utilizzare le ancore come riferimento.



Se ora guardiamo attraverso le varie coppie di oblò, ecco cosa possiamo vedere:



Questa è l'informatica!

La rappresentazione dell'informazione è un aspetto importante dell'informatica. Nel quesito si descrive una somma (più esattamente una somma vettoriale, che non può mai avere un riporto) usando il rivestimento con toni di grigio per i vetri degli oblò. Si parte con una finestra trasparente con valore 0 (zero), una tonalità leggera per 1 (uno) fino ad arrivare a una tonalità più forte per 2 (due). Per eseguire l'addizione in maniera semplice si devono innanzitutto raccogliere gli elementi da sommare e per questo è importante sapere che una delle informazioni (una fila di oblò) è presentata in forma speculare.

Siti web e parole chiave

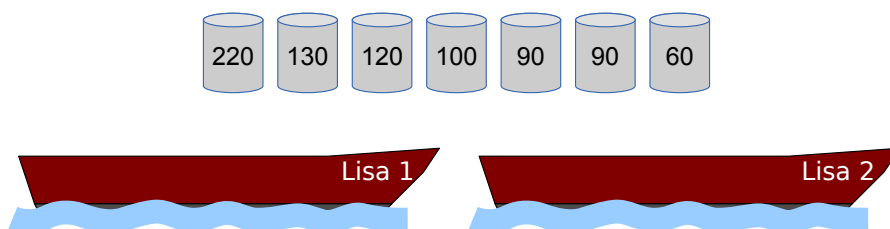
Somma di vettori, Information representation (english)



7 Caricare le Lisa

I due pescatori Falke e Folke sono i proprietari delle barche «Lisa 1» e «Lisa 2»: le due Lisa. Ogni barca può sopportare un carico massimo di 300 kg.

Falke e Folke devono trasportare con le Lisa alcune botti contenenti diversi tipi di pesce. I pescatori vengono pagati in base al peso trasportato.

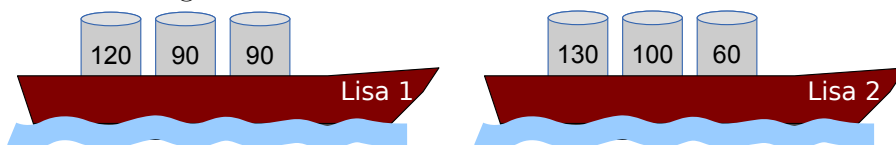


Carica le due Lisa con la maggior quantità possibile di pesce!

Qui sopra sono riportate le botti da trasportare con l'indicazione del peso (in kg).

Soluzione

In totale le barche possono essere caricate con 590 kg di pesce: $120+90+90 = 300$ kg su una barca, $130+100+60=290$ kg sull'altra.



Attenzione a non diventare avido! Se si iniziano a caricare le due barche con le botti più pesanti, il carico massimo raggiungibile è di $220+60=280$ kg, oppure $130+120=250$ kg, per un totale di soli 530 kg.

Le due Lisa non possono però essere caricate con più di 590 kg, perché il carico massimo per ciascuna è di 300 kg (cioè 600 kg in totale). C'è solo una possibilità di combinare le botti per ottenere un peso di 300 kg: $120+90+90$.

Questa è l'informatica!

Molti sono affascinati dalla possibilità di ottimizzare le cose, spesso anche per economizzare sulle spese e aumentare il proprio profitto. Per risolvere problemi di ottimizzazione molto complessi spesso si utilizzano degli appositi programmi: ad esempio per trovare il percorso più breve, il



carico massimo, una pianificazione oraria ideale e così via. Alcuni problemi di ottimizzazione possono essere risolti con un algoritmo «greedy» (avido). In questo caso, ogni passo che porta alla soluzione (qui, la scelta della botte) è orientato a ottenere il maggior profitto possibile (il peso), per questo è detto «avido».

In molti casi, però, l'avidità non aiuta e vengono utilizzati degli algoritmi più complessi per ricercare la soluzione ideale. Per alcuni problemi, l'applicazione di algoritmi in grado di garantire la soluzione migliore del problema è talmente complessa da richiedere un impegno che neppure i computer possono sopportare. Per questo tipo di problemi di ottimizzazione particolarmente complicati, l'informatica ha sviluppato degli algoritmi efficaci in grado di fornire non proprio la soluzione migliore, ma una soluzione talmente buona da poterla quasi ritenere ottimale.

Siti web e parole chiave

Problema dello zaino, Algoritmi, Ottimizzazione

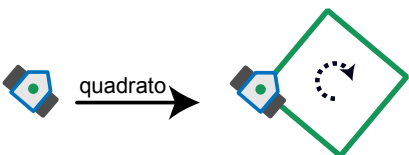
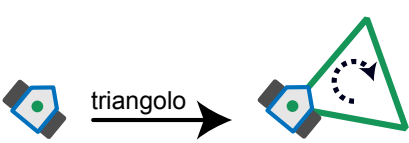
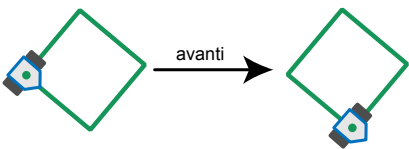
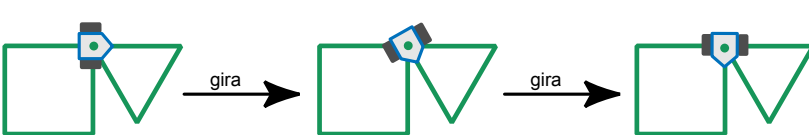
- http://it.wikipedia.org/wiki/Problema_dello_zaino



8 Drawbot

Il robot Drawbot è in grado di muoversi disegnando! Drawbot è in grado di eseguire i seguenti comandi: **quadrato**, **triangolo**, **avanti**, **gira**

Ecco gli effetti dei comandi:

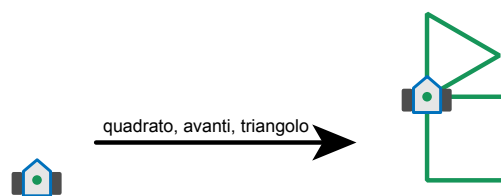
<p>quadrato: Drawbot disegna un quadrato. Ad ogni angolo si gira verso destra.</p>	
<p>triangolo: Drawbot disegna un triangolo. Ad ogni angolo si gira verso destra.</p>	
<p>avanti: Drawbot si muove su una linea già tracciata fino al primo angolo.</p>	
<p>gira: Drawboat si gira verso destra fino alla prima linea disegnata.</p>	

Drawbot è anche in grado di eseguire una sequenza di comandi.

Esempio:

quadrato, avanti, triangolo

Qui a destra è visibile il risultato di questa sequenza di comandi:



Quale sequenza di comandi ha prodotto questo risultato?

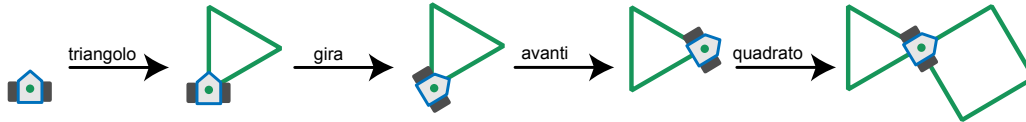


- A) quadrato, gira, avanti, triangolo
- B) triangolo, gira, avanti, quadrato
- C) triangolo, gira, quadrato
- D) quadrato, avanti, quadrato, gira, triangolo

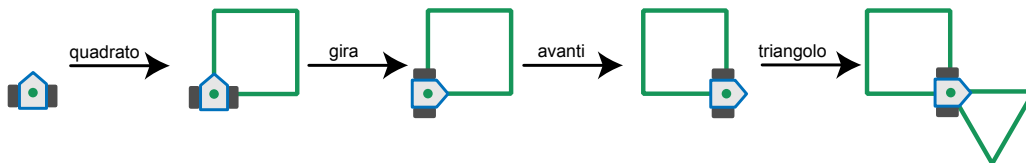


Soluzione

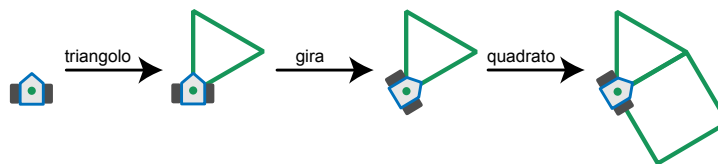
B è la risposta corretta:



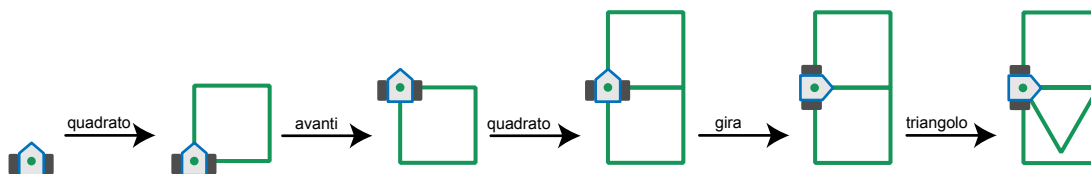
Nella risposta A i comandi **triangolo** e **quadrato** sono invertiti:



Nella risposta C manca il comando **avanti**:



La risposta D è palesemente sbagliata: il risultato di questa sequenza di comandi contiene due quadrati.



Questa è l'informatica!

Gli elementi basilari della programmazione dei robot (e anche dei computer) sono i comandi e le sequenze di comandi. Poiché solitamente i robot reali non disegnano, ma assemblano auto o sono d'ausilio nella terapie mediche, sono in grado di eseguire un numero molto più elevato di comandi complessi che producono degli effetti ben determinati. Per questo motivo è importante che i loro programmatori lavorino con precisione.

Con i semplici comandi di disegno di Drawbot è possibile imparare a programmare. Questo tipo di comandi è stato utilizzato per la prima volta dall'informatico americano Seymour Papert nel linguaggio di programmazione Logo, dove a disegnare è una tartaruga, «Turtle». Turtle-Grafik è oggi presente in molti linguaggi di programmazione, come per esempio Python.



Siti web e parole chiave

Logo, linguaggio di programmazione, Computer Grafica, Programmazione

- http://it.wikipedia.org/wiki/Logo_%28informatica%29



9 Lungo il bordo

Un robot si muove sempre lungo il bordo del suo percorso e può ricevere ed eseguire le seguenti istruzioni:

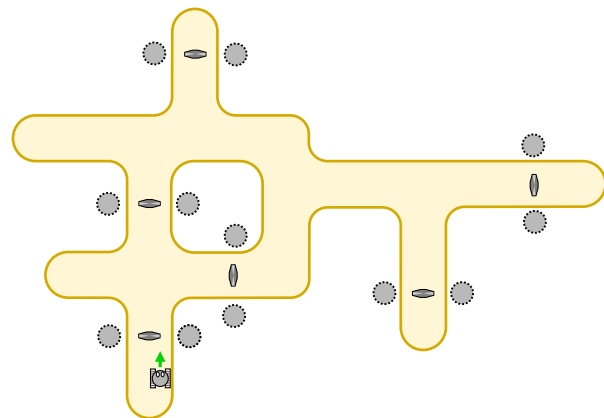
Istruzione	Esecuzione
START-GO	Accendi il motore e procedi nella direzione di partenza.
GO	Continua a muoverti lungo il bordo.
CROSS-GO	Spostati sull'altro bordo del percorso ma continua a muoverti nella stessa direzione.
STOP	Rimani fermo.

Per far ripartire il robot da fermo è necessario impartirgli l'istruzione **START-GO**. Sul percorso sono disposti dei punti di controllo. Ogni volta che il robot ne oltrepassa uno, deve eseguire l'istruzione successiva.

L'immagine mostra il percorso del robot e i punti di controllo. Qui in basso vedi il robot e la direzione di partenza.

Il robot è fermo. Ora riceve le seguenti istruzioni:

- START-GO**
- CROSS-GO**
- GO**
- GO**
- GO**
- STOP**



Dove si troverà il robot dopo aver eseguito tutte le istruzioni?

Soluzione

Il robot sarà fermo nella parte destra del percorso, sulla parte superiore.

L'immagine riporta i movimenti fatti dal robot.



3/4

5/6

7/8

9/10

11-13

-

-

medio

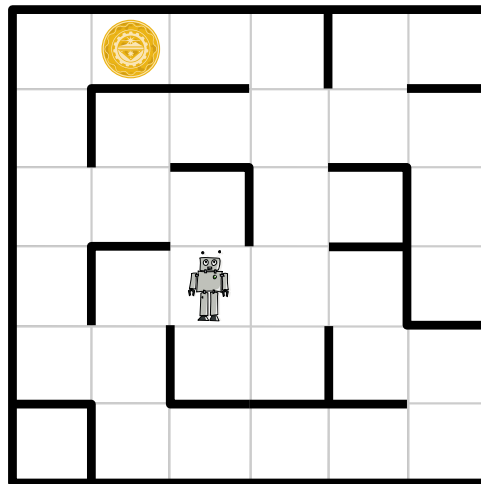
facile

facile

10 Labirinto cosmico

Gli astronauti sono atterrati su un pianeta sperduto e attraverso i loro visori ricevono delle immagini enigmatiche. Seguendo i segnali, scoprono che la fonte è un robot che si trova all'interno di un labirinto, ben visibile agli astronauti dalla posizione sopraelevata in cui si trovano. Il robot invia regolarmente delle immagini ravvicinate dell'ambiente che lo circonda.

Il labirinto è suddiviso in quadrati. Il robot si trova in uno di questi, mentre in un altro si trova un oggetto misterioso. Gli astronauti vorrebbero guidare il robot verso l'oggetto perché possa poi inviare loro delle immagini ravvicinate.



All'improvviso sui visori degli astronauti cominciano a sfarfallare quattro righe di testo, ognuna contenente quattro parole distinte che si ripetono. Nelle immagini riconoscono anche il robot e l'oggetto misterioso. Dopo averci rimuginato un po' sopra gli astronauti pensano di aver capito: le quattro parole sono in realtà dei comandi che servono a guidare il robot attraverso i quadrati adiacenti. Per ognuna delle quattro direzioni possibili esiste un comando diverso. Gli astronauti, inoltre, sono anche sicuri che una delle quattro righe di testo rappresenta la serie di comandi necessaria a guidare il robot fino all'oggetto misterioso.

Quale di queste quattro righe è in grado di guidare il robot verso l'oggetto misterioso?

- A) Ha' poS poS Ha' Ha' nIH
- B) Ha' Ha' poS Ha'
- C) Ha' poS poS Ha' nIH Ha'
- D) Ha' poS nIH vI'ogh Ha' poS



Soluzione

A è la risposta corretta:

Nessuna delle 4 righe contiene più di sei comandi. Con ogni comando il robot può fare un passo in uno dei quadrati adiacenti. L'immagine mostra i due percorsi che, in sei fasi, conducono il robot verso l'oggetto misterioso.

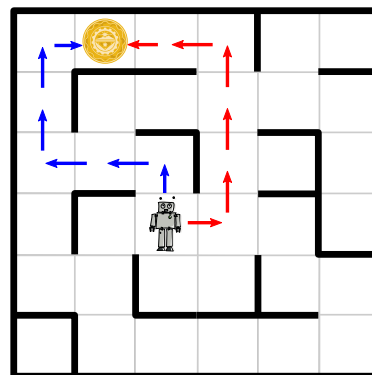
La sequenza di comandi deve quindi guidare il robot lungo il percorso mostrato dalle frecce rosse:

destra, avanti, avanti, avanti, sinistra, sinistra -

oppure attraverso quello indicato dalle frecce blu:

avanti, sinistra, sinistra, avanti, avanti, destra.

Nessuna delle righe di comandi può essere associata al percorso rosso, mentre è possibile associare la riga A) al percorso blu: Ha' = avanti, poS = sinistra e nH = destra.



Questa è l'informatica!

La crittoanalisi è la scienza che si occupa di decifrare i messaggi criptati. Già nell'antichità i crittoanalisti cercavano di decodificare i messaggi segreti, servendosi anche delle informazioni relative al possibile significato del messaggio. Nel corso della seconda guerra mondiale, per decifrare i messaggi criptati della macchina Enigma, si utilizzavano in maniera mirata i nomi delle città tedesche e le parole usate nei bollettini meteorologici, visto che i messaggi più importanti iniziavano spesso con una comunicazione relativa al tempo.

Il quesito offre la possibilità di conoscere da vicino il lavoro dei crittoanalisti. La decodifica è ancora più semplice se si conosce il «klingon» ;)

Siti web e parole chiave

Crittoanalisi, Crittografia

- <http://it.wikipedia.org/wiki/Crittoanalisi>

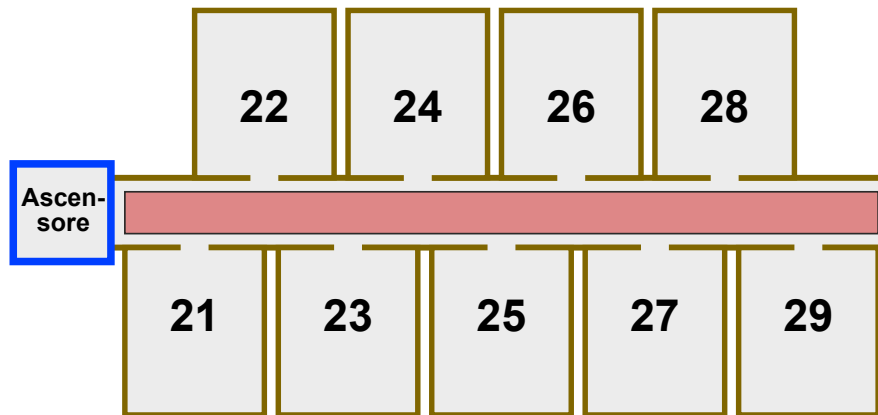


11 Hotel Comfort

Nell'hotel Comfort il numero delle camere è composto da due cifre:

- la prima indica il piano della stanza,
- la seconda indica quanto dista la stanza dall'ascensore.

In ogni piano quindi, le stanze sono disposte in modo analogo a quanto mostrato dall'immagine del secondo piano:



Gli ospiti dell'hotel Comfort devono fare il minor sforzo possibile: minore è la distanza dall'ascensore, maggiore è il comfort offerto dalla stanza. Se due stanze, disposte su piani diversi, sono equidistanti dall'ascensore, la stanza del piano più basso è considerata la più confortevole tra le due. La stanza 32 quindi è più confortevole della stanza 15, mentre la stanza 22 è più confortevole della stanza 32.

Nell'hotel Comfort vale il seguente principio: a ogni nuovo ospite deve essere assegnata la camera libera più confortevole.

Queste sono le dieci camere libere al momento: **12, 25, 11, 43, 22, 15, 18, 31, 44, 52.**

Uno dopo l'altro arrivano dieci nuovi ospiti.

In quale ordine vengono assegnate le stanze libere?

- A 18, 15, 12, 11, 25, 22, 31, 44, 43, 52
- B 52, 43, 44, 31, 22, 25, 11, 12, 15, 18
- C 11, 31, 12, 22, 52, 43, 44, 15, 25, 18
- D 11, 12, 15, 18, 22, 25, 31, 43, 44, 52

Soluzione



C è la risposta corretta

Il principio dell'hotel per l'assegnazione delle stanze prevede che il numero della stanza sia scelto prima in base alla seconda cifra e solo dopo in base alla prima. Per assegnare le stanze nell'ordine giusto, si deve leggere ogni numero delle stanze libere da destra a sinistra e poi, come al solito, scegliere in base al valore più basso. Esempio: da 32 diventa 23, da 15 diventa 51 e poiché $23 < 51$, la camera 32 deve essere assegnata prima della camera 15.

Applicando questo metodo di lettura, l'unica risposta che riporta una sequenza di numeri crescente è la C (11, 13, 21, ..., 52, 81).

La risposta A è sbagliata: la sequenza dei primi due numeri (18, 15) non rispetta il principio di assegnazione ($81 > 15$).

La risposta B è sbagliata: la sequenza del terzo e quarto numero (44, 31) non rispetta il principio di assegnazione ($44 > 31$).

La risposta D è sbagliata: la sequenza del quarto e quinto numero (18, 22) non rispetta il principio di assegnazione ($81 > 22$). In questo caso si è operata la selezione prima in base al piano e poi in base alla distanza dall'ascensore.

Questa è l'informatica!

L'assegnazione delle stanze utilizzata dall'hotel Comfort è speciale, ma possiede comunque una particolare proprietà: anche se i numeri delle stanze inizialmente disposti nell'ordine normale (es. 11, 12, 18, 22, 25) vengono riordinati per l'attribuzione del hotel Comfort, le cifre di un piano rimangono ordinate tra loro: 11, 12, 22, 25, 18. La sequenza di due numeri viene modificata solo se la priorità prevista dal nuovo sistema di ordinamento lo richiede (quindi la seconda cifra che indica la distanza dall'ascensore).

La procedura di ordinamento che, anche applicando il criterio di ordinamento scelto, non modifica la sequenza con la quale si presentava prima, in informatica è chiamata «algoritmo di ordinamento stabile». Questo tipo di algoritmi trova molte applicazioni pratiche, per esempio nei programmi per la gestione delle email dove è possibile ordinare le mail per data, mittente o oggetto. Se in un primo tempo le mail sono ordinate in base alla data e successivamente si ordinano in base all'oggetto, quelle con lo stesso oggetto rimangono comunque correttamente ordinate in base alla data. Ciò sembra naturale, ma tutto ciò funziona solo con un algoritmo di ordinamento stabile.

Siti web e parole chiave

Algoritmo di ordinamento, Algoritmi

- http://it.wikipedia.org/wiki/Algoritmo_di_ordinamento




12 Trova il mostro

Nelle segrete del castello dei castori vive un mostro che si nasconde tra le celle gialle. Nelle celle grigie il mostro non può nascondersi.

Devi scovare il mostro. Clicca su una cella gialla. Il numero di celle gialle diminuirà. Clicca di nuovo su una cella gialla. E così via.

Quando rimarrà una sola cella gialla, saprai che il mostro si nasconde lì.




Soluzione

Le 127 celle gialle rappresentano una lunga fila. La miglior strategia di ricerca consiste nel cliccare sempre sulla cella gialla al centro.

Dopo il primo click rimangono ancora 63 celle, dopo il secondo 31, poi 15, 7 e 3. Dopo il sesto rimane solo una cella gialla.

Sono necessari almeno 6 click per arrivare alla soluzione, poiché il mostro si nasconde sempre nel settore rimanente più grande.



Questa è l'informatica!

In informatica questo tipo di analisi effettuata dimezzando ogni volta il campo di ricerca è denominata «ricerca binaria». È possibile ricorrere a questo tipo di attività quando si conosce il punto centrale dello spazio in cui si effettua la ricerca. I programmi sono in grado di calcolarlo facilmente.

Si può ricorrere alla ricerca binaria quando gli oggetti da selezionare sono ordinati in modo corretto, come nel caso di una lista o di un albero binario bilanciato. Nel quesito l'ordine è fornito dalla relazione di vicinanza tra le celle delle segrete.

Una persona, per esempio, «dimezza» in due parti disuguali quando cerca una pagina in un dizionario o in un libro tradizionale (stampato su carta).

Questa è una strategia umana che permette di avvicinarsi sempre più all'obiettivo ogni volta che si dimezza, grazie al fatto che già in partenza si ha un'idea della posizione della lettera «D» nel dizionario o della pagina 550 in un libro di 600 pagine.



Siti web e parole chiave

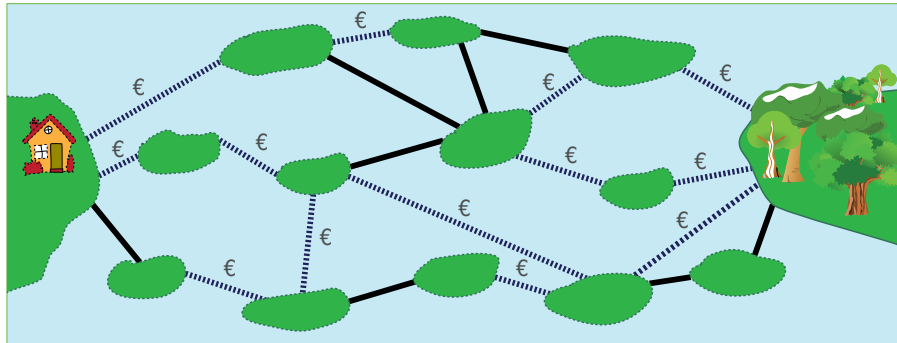
Ricerca dicotomica, Algoritmi, Recursione

- http://it.wikipedia.org/wiki/Ricerca_dicotomica



13 Ponti costosi

Le isole del lago sono collegate tra loro da ponti pubblici e privati. Per attraversare un ponte privato (linea tratteggiata) bisogna pagare un pedaggio, mentre l'attraversamento di un ponte pubblico (linea continua) è gratuito.



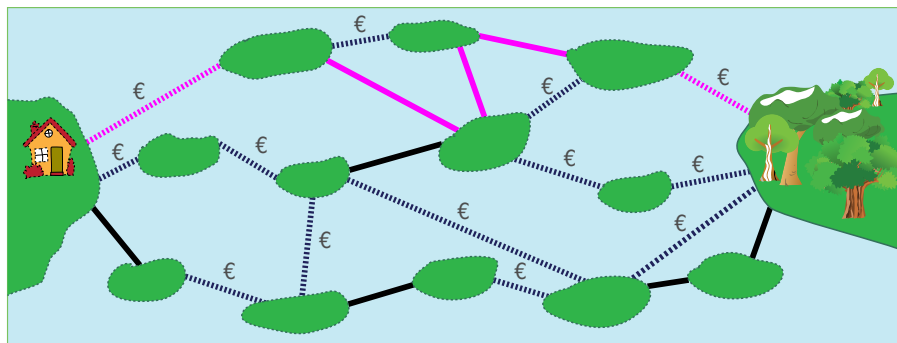
Sandy vuole raggiungere il bosco partendo da casa e cerca un percorso con il minor numero possibile di ponti. Il suo budget, però, è limitato e può permettersi solo percorsi che prevedano al massimo due ponti a pagamento.

Cerca tra i percorsi che prevedono al massimo due ponti a pagamento quello con il minor numero possibile di ponti.

Quanti ponti include questo percorso?

Soluzione

5 è corretto: Non esiste un percorso che vada da casa di Sandy al bosco composto da meno di quattro ponti poiché tutti i percorsi con quattro ponti ne includono tre o più privati e quindi Sandy non può servirsene. L'immagine mostra un percorso con cinque ponti di cui solo due privati ed è questo il percorso più breve per Sandy.





Questa è l'informatica!

Ponti che collegano isole, strade che collegano luoghi, reti di calcolatori, piste sui circuiti stampati: sono molti gli ambiti della vita, all'apparenza differenti tra loro, in cui degli oggetti sono collegati in svariate maniere. Per costruire dei sistemi che possano trovare applicazione in questi ambiti, l'informatica ricorre spesso a un modello matematico: il grafo. La teoria dei grafi trae origine dal lavoro di Eulero, il famoso matematico svizzero che nel 1736 si occupò del «problema dei ponti di Königsberg». Eulero dimostrò che non è possibile seguire un percorso circolare attraverso i ponti esistenti della città di Königsberg (oggi Kaliningrad). Eulero sarebbe sicuramente riuscito a individuare rapidamente anche il percorso utile a Sandy.

Siti web e parole chiave

Il cammino minimo, Teoria dei Grafi, Ottimizzazione

- http://it.wikipedia.org/wiki/Shortest_path
- http://it.wikipedia.org/wiki/Problema_dei_ponti_di_K%C3%B6nigsberg



3/4

5/6

7/8

9/10

11-13

-

-

difficile

medio

facile

Composizione di tronchi

14 Composizione di tronchi

I castori tagliano dei tronchi disponendone poi i pezzi ottenuti con un procedimento elaborato. All'inizio collocano un semplice tronco grosso. Esso viene poi sostituito da tronchi più piccoli mediante un metodo particolare. Questi tronchetti vengono a loro volta sostituiti da altri tronchetti ancora più piccoli seguendo lo stesso metodo.

Inizio			
Prima sostituzione			
Seconda sostituzione			

Se dopo la seconda sostituzione si ottiene la disposizione come qui a destra, **com'era la disposizione dei tronchetti dopo la prima sostituzione?**



A	B	C	D

Soluzione

A è la risposta corretta. Nelle altre risposte la prima suddivisione è del tutto differente:

A	B	C	D



Questa è l'informatica!

I risultati prodotti da una sostituzione di questo tipo sono chiamati frattali. La particolarità dei frattali è rappresentata dal fatto che queste forme sono simili tra loro anche a differenti livelli di grandezza (ovvero possiedono un'omotetia interna). Contrariamente a quanto esposto nel quesito, il frattale si origina con una serie infinita di sostituzioni. Anche ingrandendo un'immagine frattalica all'infinito, sarà sempre riconoscibile la sua struttura base. Con l'aiuto di semplici regole come quella delle sostituzioni è possibile ottenere un risultato sorprendentemente complesso.

Nell'informatica questo principio trova molteplici applicazioni poiché permette di ottenere risultati notevoli a fronte di un impegno modesto per la programmazione. In realtà, però, non è possibile arrivare a creare un frattale infinito perché il programma deve poter terminare. Ma questo è solo un problema teorico: per la pratica è sufficiente continuare ad operare le sostituzioni fino a quando l'utilizzatore umano non riesca più a riconoscere i livelli di sostituzione. L'esempio centrale del quesito è un frattale particolarmente conosciuto che prende il nome dal suo scopritore: curva di Koch.

Siti web e parole chiave

Sistemi L, Frattale, Recursione

- <https://it.wikipedia.org/wiki/Frattale>
- https://it.wikipedia.org/wiki/Curva_di_Koch
- <http://www.kevs3d.co.uk/dev/lsystems/> *Live-Demo for L-Systems (english)*




15 La piastrella sbagliata

Il rivestimento del parcheggio della Computer-Clubhaus deve essere sostituito da una griglia 9x9, composta da piastrelle bianche o nere.

Un designer si è occupato del progetto. A destra e sotto alla griglia ha inserito una striscia con dei campi di controllo.

Se il numero di piastrelle nere presenti in una riga della griglia è pari, il campo di controllo di destra è nero. In caso contrario è bianco.

Se il numero di piastrelle nere presenti in una colonna della griglia è pari, il campo di controllo della striscia sottostante è nero. In caso contrario è bianco.



Purtroppo è stato commesso un errore: I campi di controllo sono corretti, ma una piastrella è sbagliata. **Quale?**



Soluzione

C è la risposta corretta:

La piastrella C deve essere bianca.

La settima riga dall'alto contiene un numero pari (4) di piastrelle nere ma il relativo campo di controllo è bianco. Pertanto una delle piastrelle presenti nella riga è sbagliata.

I campi di controllo delle altre righe sono corretti.

La seconda colonna da sinistra contiene un numero dispari (5) di piastrelle nere, ma il relativo campo di controllo è nero. Pertanto una delle piastrelle presenti nella seconda colonna è sbagliata. I campi di controllo delle altre colonne sono corretti.

Quindi è la piastrella C (settima riga, seconda colonna) a essere sbagliata.

Questa è l'informatica!

Il quesito rappresenta un semplice esempio codice di rilevazione d'errore. In questo caso vengono salvati dei bit che possono essere veri o falsi. Quest'informazione viene rappresentata nella grafica da campi di controllo bianchi o neri.

Contando anche i campi di controllo, il numero di bit neri presenti in ogni riga e colonna deve sempre essere dispari. Per essere effettivi, questi codici di rilevazione d'errore partono dal presupposto che il numero di bit contemporaneamente sbagliati sia limitato.

La verifica delle righe o delle colonne in maniera isolata indica unicamente la presenza di un bit sbagliato. La verifica combinata di righe e colonne permette invece di localizzare e riparare un singolo bit errato. Non è invece possibile riparare in contemporanea più bit errati e, addirittura, può accadere che non vengano rilevati.

L'informatica usa vari codici con diversi gradi di tolleranza per salvare e trasmettere informazioni. Alcuni ambiti richiedono un grado di sicurezza per il trattamento dei dati maggiore (p. es. nel caso di acquisti on line o per l'e-banking) rispetto ad altri (p. es. per la visione di filmati a scopo di svago).

Siti web e parole chiave

Rilevazione e correzione d'errore, Information representation (english)

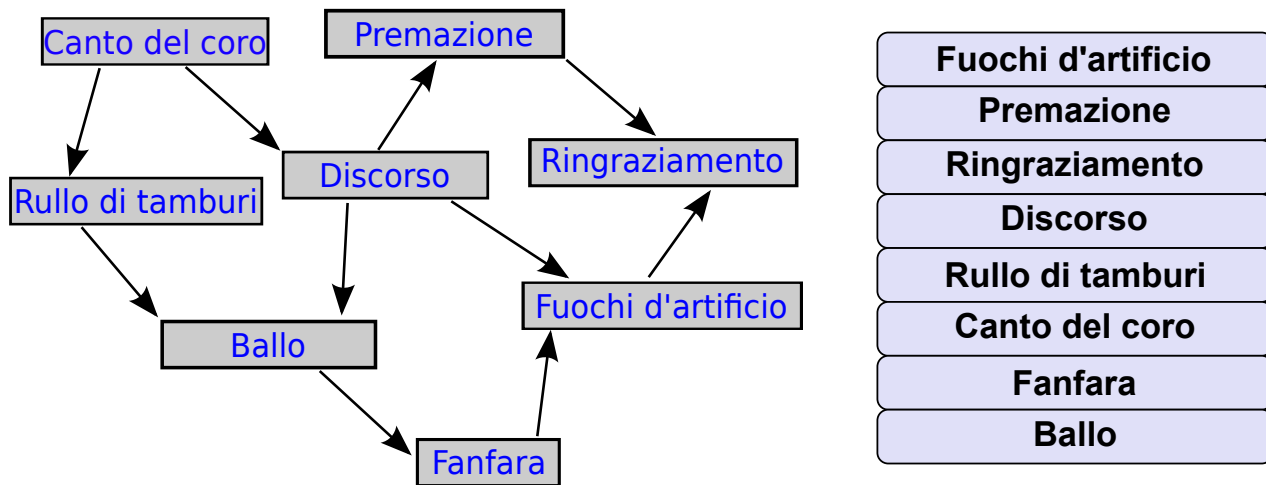
- http://it.wikipedia.org/wiki/Rilevazione_e_correzione_d%27errore



16 Cerimonia

Una cerimonia di premiazione si compone di più azioni che devono essere eseguite secondo un determinato ordine. A sinistra sono indicate le azioni che compongono una cerimonia. Una freccia che parte da un'azione verso una seconda, indica che quest'ultima deve essere eseguita dopo la prima. Il canto del coro, per esempio, deve essere eseguito prima del rullo di tamburi e del discorso.

Organizza una cerimonia!



Soluzione

Si può organizzare una cerimonia utilizzando questo approccio: ogni azione non ancora compiuta, ma indicata esclusivamente da frecce che partono da azioni già svolte, deve essere eseguita. Secondo questo approccio, l'unica azione iniziale può essere il canto del coro, al quale può seguire - a scelta - il rullo di tamburi o il discorso. Si procede quindi allo stesso modo fino ad arrivare al ringraziamento.



Questa è una soluzione:

Canto del coro
Rullo di tamburi
Discorso
Ballo
Fanfara
Premazione
Fuochi d'artificio
Ringraziamento

Questa è un'altra soluzione:

Canto del coro
Discorso
Rullo di tamburi
Premazione
Ballo
Fanfara
Fuochi d'artificio
Ringraziamento

Esistono anche altre soluzioni.

Questa è l'informatica!

Anche nel quotidiano esistono delle priorità tra i vari comportamenti come, per esempio, quando ci si veste: i calzini devono essere indossati prima delle scarpe o le mutande prima dei pantaloni. I pantaloni, a loro volta, devono essere indossati prima delle scarpe, mentre non è importante se si indossano prima le calze o le mutande. Se non si verificano intoppi, allora la sequenza di esecuzione delle azioni compiute per vestirsi è ordinata in maniera topologica.

In informatica gli ordinamenti topologici sono molto importanti. Ad esempio, le parti di un programma che dipendono dai risultati di altre parti, devono essere eseguite in modo subordinato, così da poter disporre di tali risultati al momento giusto. Un ulteriore esempio riguarda le banche dati: per poter cancellare un'annotazione presente in una tabella è necessario cancellare prima tutti i dati che rimandano a questa annotazione.

Se si adotta un ordinamento topologico si ha la garanzia che non esistono dipendenze reciproche tra le priorità. Questo tipo di «cicli» può infatti bloccare completamente l'esecuzione.

Siti web e parole chiave

Ordinamento topologico, Algoritmi, Teoria dei Grafi

- http://it.wikipedia.org/wiki/Ordinamento_topologico



3/4

5/6

7/8

9/10

11-13

-

-

difficile

medio

facile

Brezel 

17 Brezel

Due castori lavorano in una panetteria. Susanna la panettiera tira fuori dal forno tre brezel per volta e li appende alla sbarra infilandoli da destra: prima un brezel A, poi un brezel B e infine un brezel O. Pietro è il venditore e vende sempre il primo brezel di destra. Susanna cuoce più velocemente di quanto Pietro riesca a vendere.



Qual è il numero minimo di brezel venduti da Pietro se sulla sbarra sono appesi i brezel indicati nell'immagine?

- A) 5
- B) 7
- C) 9
- D) 11

Soluzione

C è la risposta corretta:

Per fare in modo che rimangano 6 brezel A, Susanna deve rifornire la sbarra minimo 6 volte con una serie di 3 brezel (cioè 18 pezzi). I brezel appesi sono 9 e quindi Pietro ha venduto 9 pezzi: 4 brezel B e 5 brezel O.



Non sappiamo però quante serie complete di brezel ABO abbia venduto Pietro.

Questa è l'informatica!

La sbarra rappresenta una *pila* (*stack*). In informatica la pila identifica un concetto di stoccaggio delle informazioni dove l'ultima è impilata nella posizione «più alta» (push) e, allo stesso modo, è possibile avere accesso solo all'informazione stoccata «più in alto» (pop).

Sulla sbarra i nuovi brezel possono essere appesi e prelevati solo nella prima posizione. In questo caso il «più in alto» del concetto di pila è corrisponde al concetto di «prima posizione». LIFO (Last in First Out) indica le modalità di accesso alle informazioni contenute nella pila.

Siti web e parole chiave

Stack (o pila), Struttura dati, Last In First (acronimo inglese LIFO), ultimo ad entrare, primo ad uscire.

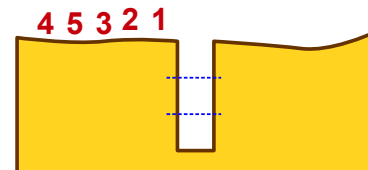
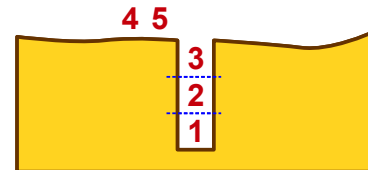
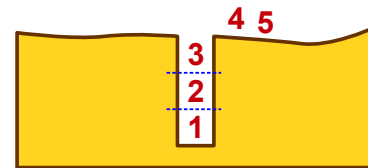
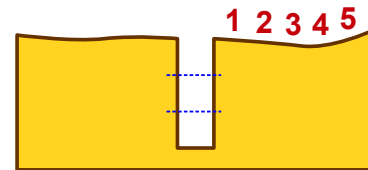
- <http://it.wikipedia.org/wiki/Stack>



18 Castoro in buca

I castori si avventurano spesso in gruppo nella foresta oscura. I sentieri che attraversano la foresta sono molto stretti. Per questo procedono sempre in fila, senza mai sorpassarsi. Lungo i sentieri ci sono però parecchie buche. I castori le superano in questa maniera:

- Dapprima un certo numero di castori si infila nella buca fino a riempirla.
- Poi i castori rimanenti superano la buca.
- Infine i castori escono dalla buca, ad ordine inverso rispetto a come vi erano entrati.

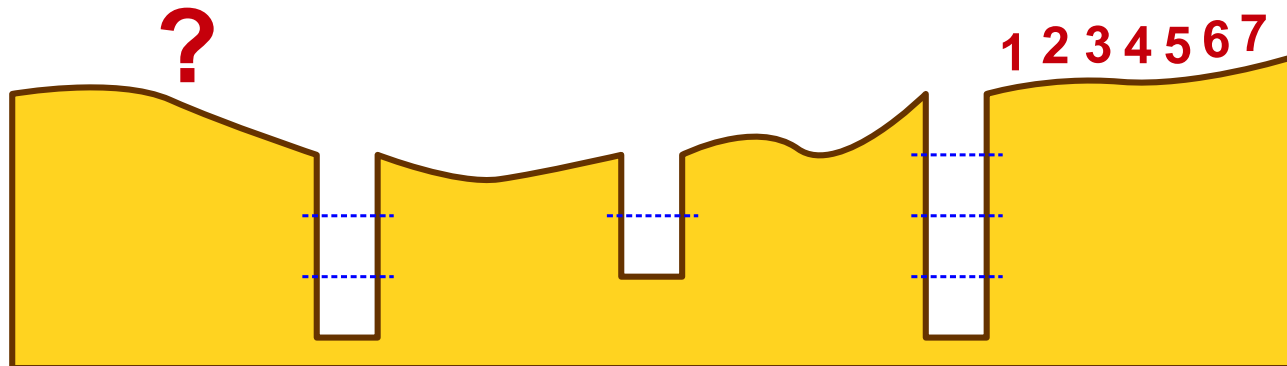


Dopodiché il gruppo può ripartire.

Le immagini mostrano come 5 castori superano una buca, che ne può contenere 3.

Un gruppo di 7 castori attraversa la foresta oscura. I castori devono superare tre buche. Nella prima buca entrano 4 castori, nella seconda 2 e nella terza 3.

Quale sarà la sequenza di castori dopo aver superato la terza buca?



- A) 4 7 5 6 1 2 3
- B) 2 1 6 5 3 4 7
- C) 6 5 7 4 3 2 1
- D) 5 7 6 1 4 3 2



Soluzione

All'inizio la sequenza è: 1 2 3 4 5 6 7

Dopo la prima buca (nella quale entrano 4 castori): 5 6 7 4 3 2 1

B è la risposta corretta: Dopo la seconda buca (nella quale entrano 2 castori): 7 4 3 2 1 6 5

Dopo la terza buca (nella quale entrano 3 castori): 2 1 6 5 3 4 7

Questa è l'informatica!

L'archiviazione strutturata dei dati è molto importante in informatica. L'archiviazione dei dati ha senso solo se è possibile in qualsiasi momento recuperare i dati desiderati. Quello che si intende con «desiderati» dipende dall'utilizzo.

In informatica, un supporto di memoria con lo stesso funzionamento di quello rappresentato dalle buche nel quesito è detto *pila* (*stack* in inglese). Come in una pila, è possibile avere accesso solo ai dati presenti a una delle due estremità della memoria. Questa è una grossa limitazione; in compenso, uno stack può essere realizzato molto facilmente, anche come hardware. Altre strutture di memoria permettono di accedere a tutti i dati contenuti in maniera più rapida, ma sono più complesse da realizzare.

Se è sufficiente accedere ai dati che sono stati salvati più di recente, allora lo stack è la soluzione ideale.

Siti web e parole chiave

Stack (o pila), Struttura dati, Last In First (acronimo inglese LIFO), ultimo ad entrare, primo ad uscire.

- <http://it.wikipedia.org/wiki/Stack>



19 Rete a prova di tempesta

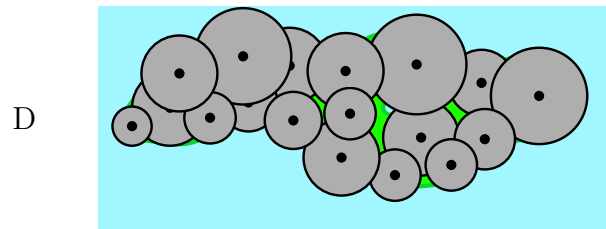
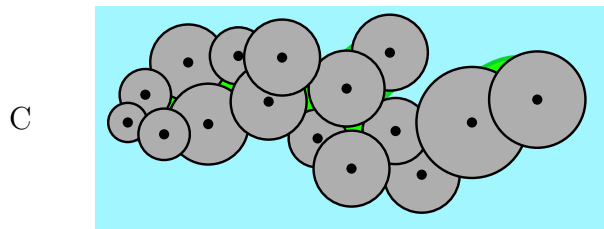
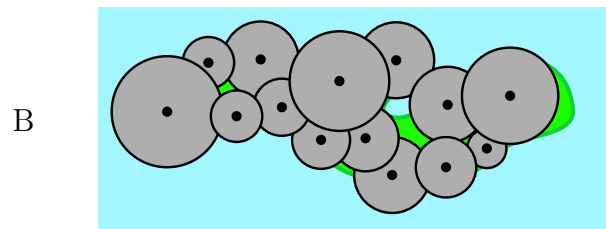
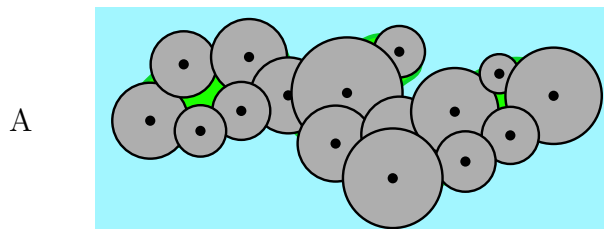
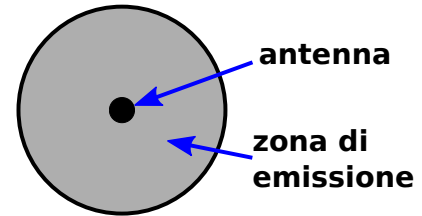
Su di un'isola soggetta a frequenti tempeste devono essere installate delle antenne per la telefonia mobile. Ogni antenna copre una zona di emissione di forma circolare.

Due antenne sono direttamente collegate tra loro via radio quando le loro zone di emissione si sovrappongono.

Un'antenna però può essere collegata a un'altra anche in maniera indiretta grazie a una catena di antenne collegate direttamente tra loro.

A causa delle continue tempeste, le antenne devono essere collocate in modo tale da poter tollerare la caduta di una di esse: il collegamento deve essere infatti garantito anche nel caso in cui una venga abbattuta.

Come devono essere disposte le antenne?

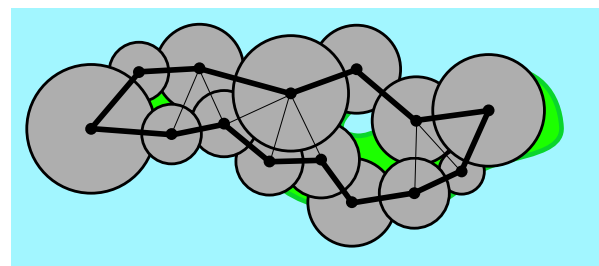


Soluzione

B è la risposta corretta:

Se si traccia il percorso che collega direttamente tra loro le antenne, si ottiene anche un cammino circolare (linee più spesse nella figura).

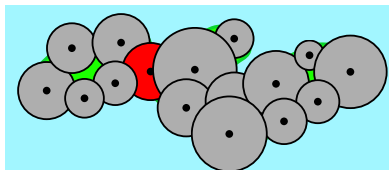
Nel caso B, anche se si elimina un'antenna qualsiasi, le altre antenne rimangono comunque collegate tra loro.



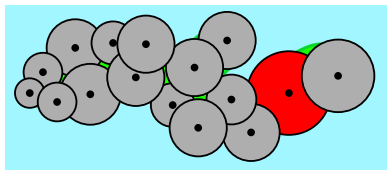


Le altre possibilità proposte non prevedono il cammino circolare visto sopra perché una delle antenne rappresenta un punto critico (zona d'emissione rossa). Se quest'antenna viene eliminata, si creano due gruppi isolati.

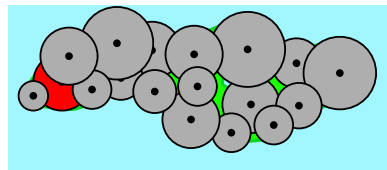
A



C



D



Questa è l'informatica!

Il collegamento tra le antenne costituisce una rete che può essere rappresentata da un grafo. Basta sostituire le antenne con dei nodi e le zone di emissione circolari che si sovrappongono con degli archi.

Molte reti sono concepite in maniera ridondante. In tal modo la rete continua a funzionare anche se viene a mancare un nodo. In questo ambito, internet rappresenta un ottimo esempio poiché non prevede nessun nodo centrale. Di solito due nodi qualsiasi sono collegati tra loro da vari percorsi: se un percorso s'interrompe o è sovraccarico, è possibile utilizzarne un altro.

Il quesito si occupa proprio di questo: dell'identificazione di una rete ridondante.

Le reti per la telefonia mobile sono caratterizzate da un altro tipo di ridondanza: oltre a collegare tra loro le varie antenne in maniera ridondante, sono sempre raggiungibili più antenne dallo stesso punto. In questo modo, in caso di incidente, non solo la rete continua a funzionare ma gli utenti, di norma, non si accorgono nemmeno del problema, poiché i loro cellulari si collegano automaticamente a un'altra antenna.

Siti web e parole chiave

Topologia di rete, Single point of failure, Teoria dei Grafi, Ottimizzazione

- http://it.wikipedia.org/wiki/Topologia_di_rete
- http://it.wikipedia.org/wiki/Single_point_of_failure



Autori dei quesiti

 Ahto Truu, Estonia	 Alexandre Talon, Francia
 Bernd Kurzmann, Austria	 Caroline Bösinger, Svizzera
 Chris Roffey, Regno Unito	 Christian Datzko, Svizzera
 Emil Kelevedjiev, Bulgaria	 Françoise Tort, Francia
 Fredrik Heintz, Svezia	 G. Lee, Taiwan
 Gerald Futschek, Austria	 Hans-Werner Hein, Germania
 Hiroyuki Nagataki, Giappone	 Ivo Blöchliger, Svizzera
 J.P. Pretti, Canada	 Janez Demšar, Slovenia
 Jiří Vaníček, Rep. Ceca	 Juha Vartiainen, Finlandia
 Jurate Valatkeviciene, Lituania	 Jürgen Frühwirth, Austria
 Khairul M. Zaki, Malesia	 Eljakim Schrijvers, Paesi Bassi
 Kirsten Schlüter, Germania	 Linda Mannila, Finlandia
 Maciej Syslo, Polonia	 Maiko Shimabuku, Giappone
 Mathias Hiron, Francia	 Michael Weigend, Germania
 Monika Gujberová, Slovacchia	 Peter Garscha, Austria
 Roman Ledinsky, Austria	 Sergei Pozdniakov, Russia
 Sher Minn Chong, Malesia	 Susumu Kanemune, Giappone
 Troy Vasiga, Canada	 Valentina Dagiene, Lituania
 Wolfgang Pohl, Germania	 Zoltán Molnár, Ungheria
 Zsuzsa Pluhár, Ungheria	



Sponsoring: concorso 2014

HASLERSTIFTUNG

<http://www.haslerstiftung.ch/>

ROBOROBO

<http://www.roborobo.ch/>

Microsoft

<http://www.microsoft.ch/> /
<http://www.innovativeschools.ch/>

**bischof
berger**

<http://www.baerli-biber.ch/>

verkehrshaus.ch

<http://www.verkehrshaus.ch/>
Museo Svizzero dei Trasporti



i-factory (Museo Svizzero dei Trasporti, Lucerna)

UBS

<http://www.ubs.com/>
Wealth Management IT and UBS Switzerland IT

ZUBLER & PARTNER AG
Informatik

<http://www.zubler.ch/>
Zubler & Partner AG Informatik
Umfassendes Angebot an Dienstleistungen.

PRESENTEX
Das Geschenk - die gute Werbung

<http://www.presentex.ch/>



<http://www.bbv.ch/>



Ulteriori offerte

010100110101011001001001
010000010010110101010011
010100110100100101000101
001011010101001101010011
010010010100100100100001

SSII

www.svia-ssie-ssii.ch
schweizerischerverein für informatik in d
erausbildung // société suisse de l'inform
atique dans l'enseignement // società sviz
zera per l'informatica nell'insegnamento

Diventate membri della SSII <http://svia-ssie-ssii.ch/ssii/membri> sostenendo in questo modo il Castoro Informatico.

Chi insegna presso una scuola dell'obbligo, media superiore, professionale o universitaria in Svizzera può diventare membro ordinario della SSII.

Scuole, associazioni o altre organizzazioni possono essere ammesse come membro collettivo.