



**INFORMATIK-BIBER SCHWEIZ  
CASTOR INFORMATIQUE SUISSE  
CASTORO INFORMATICO SVIZZERA**

**Exercices 2020**

**Années HarmoS 13/14/15**

<https://www.castor-informatique.ch/>

**Éditeurs :**

Jean-Philippe Pellet, Elsa Pellet, Gabriel Parriaux,  
Susanne Datzko, Fabian Frei, Juraj Hromkovič, Regula Lacher

010100110101011001001001  
010000010010110101010011  
010100110100100101000101  
001011010101001101010011  
010010010100100100100001

**SS!E**

[www.svia-ssie-ssii.ch](http://www.svia-ssie-ssii.ch)  
schweizerischerverein für informatik in d  
erausbildung // société suisse pour l'infor  
matique dans l'enseignement // società sviz  
zera per l'informatica nell'insegnamento







# Ont collaboré au Castor Informatique 2020

Susanne Datzko, Fabian Frei, Martin Guggisberg, Lucio Negrini, Gabriel Parriaux, Jean-Philippe Pellet

Cheffe de projet : Nora A. Escherle

Nous adressons nos remerciements pour le travail de développement des exercices du concours à :  
Juraj Hromkovič, Michael Barot, Christian Datzko, Jens Gallenbacher, Dennis Komm, Regula Lacher,  
Peter Rossmann : ETH Zurich, Ausbildungs- und Beratungszentrum für Informatikunterricht

Le choix des exercices a été fait en collaboration avec les organisateurs de Bebras en Allemagne, Autriche, Hongrie, Slovaquie et Lituanie. Nos remerciements en particulier :

Valentina Dagienė : Bebras.org

Wolfgang Pohl, Hannes Endreß, Ulrich Kiesmüller, Kirsten Schlüter, Michael Weigend : Bundesweite Informatikwettbewerbe (BWINF), Allemagne

Wilfried Baumann, Anoki Eischer : Österreichische Computer Gesellschaft

Gerald Futschek, Florentina Voboril : Technische Universität Wien

Zsuzsa Pluhár : ELTE Informatikai Kar, Hongrie

Michal Winzcer : Université Comenius de Bratislava, Slovaquie

La version en ligne du concours a été réalisée sur l'infrastructure cuttle.org. Nous remercions pour la bonne collaboration :

Eljakim Schrijvers, Justina Dauksaite, Arne Heijenga, Dave Oostendorp, Andrea Schrijvers, Alieke Stijf, Kyra Willekes : cuttle.org, Pays-Bas

Chris Roffey : Université d'Oxford, Royaume-Uni

Pour le support pendant les semaines du concours, nous remercions en plus :

Hanspeter Erni : Direction, école secondaire de Rickenbach

Gabriel Thullen : Collège des Colombières

Beat Trachsler : Kantonsschule Kreuzlingen

Christoph Frei : Chragokyberneticks (Logo Castor Informatique Suisse)

Dr. Andrea Leu, Maggie Winter, Brigitte Manz-Brunner : SenarcLens Leu + Partner AG

La version allemande des exercices a également été utilisée en Allemagne et en Autriche.

L'adaptation française a été réalisée par Elsa Pellet et l'adaptation italienne par Christian Giang.



**INFORMATIK-BIBER SCHWEIZ**  
**CASTOR INFORMATIQUE SUISSE**  
**CASTORO INFORMATICO SVIZZERA**

Le Castor Informatique 2020 a été réalisé par la Société Suisse de l'Informatique dans l'Enseignement SSIE et soutenu par la Fondation Hasler.

## HASLERSTIFTUNG

Cette brochure a été produite le 20 janvier 2026 avec le système de composition de documents  $\text{\LaTeX}$ . Nous remercions Christian Datzko pour le développement et maintien de la structure de génération des 36 versions de cette brochure (selon les langues et les degrés). La structure actuelle a été mise en place de manière similaire à la structure précédente, qui a été développée conjointement avec Ivo Blöchliger dès 2014. Nous remercions aussi Jean-Philippe Pellet pour le développement de la série d'outils `bebras`, qui est utilisée depuis 2020 pour la conversion des documents source depuis les formats Markdown et YAML.

Tous les liens dans les tâches ci-après ont été vérifiés le 1<sup>er</sup> décembre 2020.



Les exercices sont protégés par une licence Creative Commons Paternité – Pas d'Utilisation Commerciale – Partage dans les Mêmes Conditions 4.0 International. Les auteur·e·s sont cité·e·s en p. 16.



# Préambule

Très bien établi dans différents pays européens et plus largement à l'échelle mondiale depuis plusieurs années, le concours « Castor Informatique » a pour but d'éveiller l'intérêt des enfants et des jeunes pour l'informatique. En Suisse, le concours est organisé en allemand, en français et en italien par la SSIE, la Société Suisse pour l'Informatique dans l'Enseignement, et soutenu par la Fondation Hasler dans le cadre du programme d'encouragement « FIT in IT ».

Le Castor Informatique est le partenaire suisse du concours « Bebras International Contest on Informatics and Computer Fluency » (<https://www.bebas.org/>), initié en Lituanie.

Le concours a été organisé pour la première fois en Suisse en 2010. Le Petit Castor (années HarmoS 5 et 6) a été organisé pour la première fois en 2012.

Le Castor Informatique vise à motiver les élèves à apprendre l'informatique. Il souhaite lever les réticences et susciter l'intérêt quant à l'enseignement de l'informatique à l'école. Le concours ne suppose aucun prérequis quant à l'utilisation des ordinateurs, sauf de savoir naviguer sur Internet, car le concours s'effectue en ligne. Pour répondre, il faut structurer sa pensée, faire preuve de logique mais aussi de fantaisie. Les exercices sont expressément conçus pour développer un intérêt durable pour l'informatique, au-delà de la durée du concours.

Le concours Castor Informatique 2020 a été fait pour cinq tranches d'âge, basées sur les années scolaires :

- Années HarmoS 5 et 6 (Petit Castor)
- Années HarmoS 7 et 8
- Années HarmoS 9 et 10
- Années HarmoS 11 et 12
- Années HarmoS 13 à 15

Les élèves des années HarmoS 5 et 6 avaient 9 exercices à résoudre : 3 faciles, 3 moyens, 3 difficiles. Les élèves des années HarmoS 7 et 8 avaient, quant à eux, 12 exercices à résoudre (4 de chaque niveau de difficulté). Finalement, chaque autre tranche d'âge devait résoudre 15 exercices (5 de chaque niveau de difficulté).

Chaque réponse correcte donnait des points, chaque réponse fautive réduisait le total des points. Ne pas répondre à une question n'avait aucune incidence sur le nombre de points. Le nombre de points de chaque exercice était fixé en fonction du degré de difficulté :

	Facile	Moyen	Difficile
Réponse correcte	6 points	9 points	12 points
Réponse fautive	-2 points	-3 points	-4 points

Utilisé au niveau international, ce système de distribution des points est conçu pour limiter le succès en cas de réponses données au hasard.



Chaque participant·e obtenait initialement 45 points (ou 27 pour la tranche d'âge «Petit Castor», et 36 pour les années HarmoS 7 et 8).

Le nombre de points maximal était ainsi de 180 (ou 108 pour la tranche d'âge «Petit Castor», et 144 pour les années HarmoS 7 et 8). Le nombre de points minimal était zéro.

Les réponses de nombreux exercices étaient affichées dans un ordre établi au hasard. Certains exercices ont été traités par plusieurs tranches d'âge.

**Pour de plus amples informations :**

SVIA-SSIE-SSII Société Suisse de l'Informatique dans l'Enseignement

Castor Informatique

Gabriel Parriaux

<https://www.castor-informatique.ch/fr/kontaktieren/>

<https://www.castor-informatique.ch/>



# Table des matières

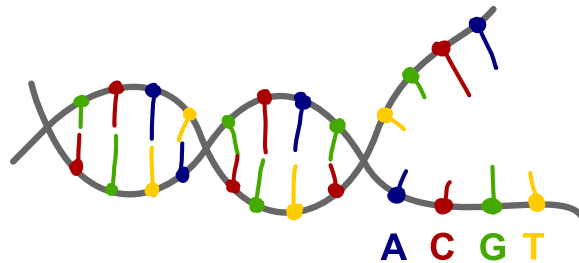
Ont collaboré au Castor Informatique 2020 . . . . .	i
Préambule . . . . .	iii
Table des matières . . . . .	v
1. Séquence ADN . . . . .	1
2. Bateau-taxi . . . . .	2
3. Casiers . . . . .	3
4. Triangle de Sierpiński . . . . .	4
5. Mosaïque . . . . .	5
6. L'archipel des castors . . . . .	6
7. Table incomplète . . . . .	7
8. Sudoku boisé 4×4 . . . . .	8
9. Transport d'argent . . . . .	9
10. Las Bebras . . . . .	10
11. Arbres digitaux . . . . .	11
12. Chauffage au sol . . . . .	12
13. Journée tranquille . . . . .	13
14. Kangourou bondissant . . . . .	14
15. Des cases et des billes . . . . .	15
A. Auteur-e-s des exercices . . . . .	16
B. Sponsoring: Concours 2020 . . . . .	17
C. Offres ultérieures . . . . .	19





# 1. Séquence ADN

Notre patrimoine génétique est enregistré sous forme de séquences d'ADN. Une séquence d'ADN est essentiellement une suite de bases dont quatre formes existent : A, C, D et T.



Nous considérons les trois sortes de mutations suivantes :

Mutation	Description	Exemple
Substitution	Une base est remplacée par une autre.	ATGGT → ATAGT
Délétion	Une base est perdue sans être remplacée.	ATGGT → ATGT
Insertion	Une base est ajoutée dans une séquence.	ATGGT → ACTGGT

Il y a exactement une des séquences suivantes qui ne peut **pas** être générée par trois mutations de la séquence GTATCG. Laquelle est-ce ?


- A) GCAATG
- B) ATTATCCG
- C) GAATGC
- D) GGTAAC



## 2. Bateau-taxi



Les trois castors Alan, Bob et Conrad veulent prendre un bateau-taxi. Il n'y a qu'un bateau-taxi. Alan est prêt à payer 4 francs castor ( $4 \times$  ) , Bob 5 francs castor ( $5 \times$  ) et Conrad seulement 3 francs castor ( $3 \times$  ) . Le taxi peut transporter au maximum 20 kg. Le chauffeur de taxi fait donc les pesées suivantes :



Quel(s) castor(s) le chauffeur prend-il avec s'il veut gagner le plus d'argent possible ?

- A) Seulement Bob
- B) Alan et Bob
- C) Bob et Conrad
- D) Alan et Conrad
- E) Tous les trois: Alan, Bob et Conrad

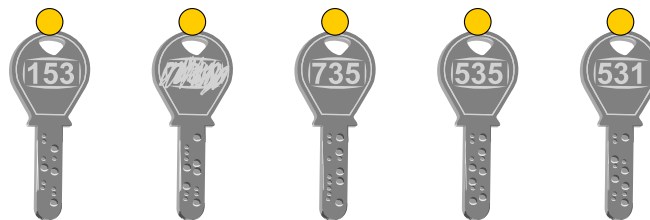


### 3. Casiers

Cinq enfants ont chacun un casier étiqueté à l'école. Un nombre à trois chiffres est gravé sur chacune des clés correspondantes. Malheureusement, le nombre sur l'une des clés est rayé.

Chaque nombre à trois chiffres représente les trois premières lettres d'un nom. Un chiffre représente toujours la même lettre, par exemple 8 pour « C » ou « c ».

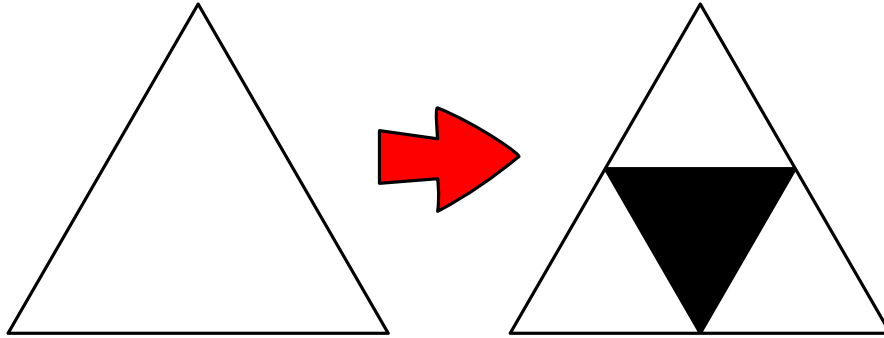
*Relie les clés aux bons casiers. Pour cela, trace des lignes entre les points jaunes.*



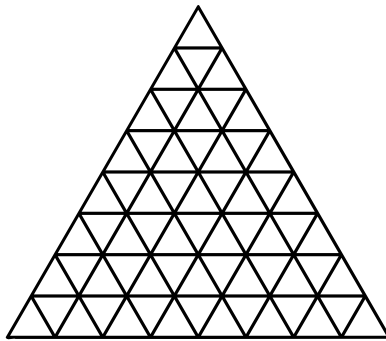


## 4. Triangle de Sierpiński

Pour obtenir un triangle de Sierpiński, on dessine d'abord un triangle équilatéral blanc, puis on procède étape par étape. À chaque étape, chaque triangle blanc existant est divisé en quatre triangles plus petits et celui du centre est coloré en noir, comme montré ci-dessous :




Dessine la figure obtenue après trois étapes. Pour cela, colorie les bons petits triangles en noir.



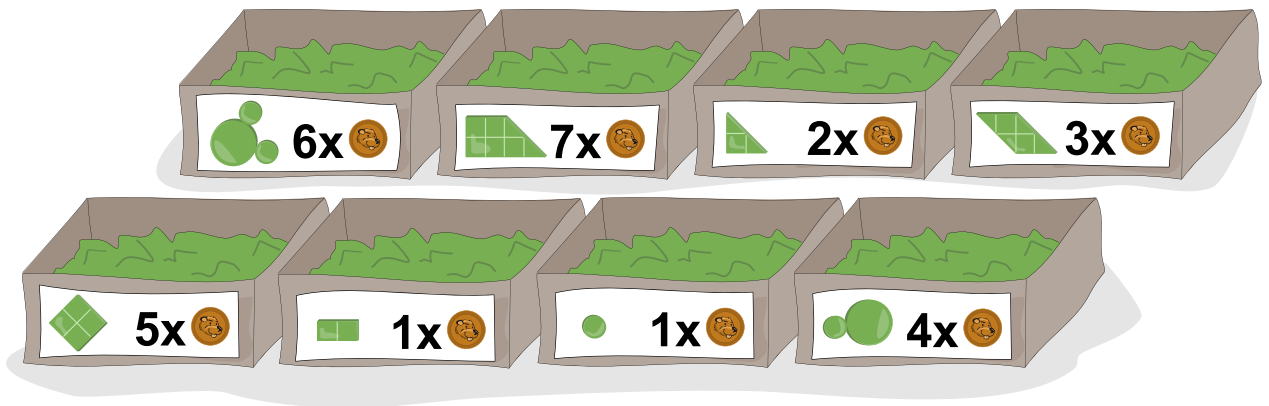


## 5. Mosaïque

Giulia veut acheter des tesselles pour réaliser ce personnage en mosaïque :



Le magasin de jouets propose différentes tesselles en quantité au choix. Le prix par tesselle varie entre 1 et 7 pièces de monnaie.



Les tesselles peuvent être tournées comme désiré lors de l'assemblage, mais elles ne peuvent pas se chevaucher.

*Combien de pièces de monnaie Giulia doit-elle dépenser si elle choisit l'option la moins chère ?*

- A) 13 pièces de monnaie
- B) 14 pièces de monnaie
- C) 16 pièces de monnaie
- D) 20 pièces de monnaie

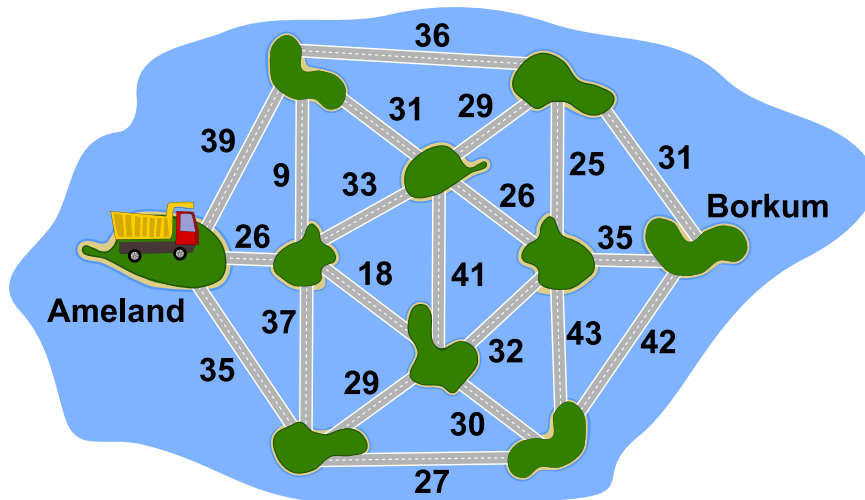


## 6. L'archipel des castors

Dans l'archipel des castors, il y a dix îles qui sont reliées par des ponts, comme sur la carte ci-dessous. Le nombre près de chaque pont indique le poids maximal en tonnes d'un camion pour qu'il puisse le traverser.

Le castor Knuth aimerait amener du sable sur une plage de l'île de Borkum. Il veut donc transporter autant de sable que possible de l'île d'Ameland à l'île de Borkum en un seul voyage. La longueur de la route à parcourir lui est égale, mais il ne veut prendre aucun pont plus d'une fois.

Quelle route devrait-il emprunter avec son camion pour atteindre Borkum ? Dessine-la sur la carte.





## 7. Table incomplète

Les castors utilisent un code secret dans lequel chaque lettre est remplacée par un tout nouveau symbole. La table ci-dessous décrit comment les nouveaux symboles sont assemblés. Malheureusement, la table est incomplète car certaines parties ont été effacées.



Reconstruis le texte original à partir du cryptogramme suivant (déchiffre le cryptogramme). Laquelle des quatre solutions proposées est-elle juste ?



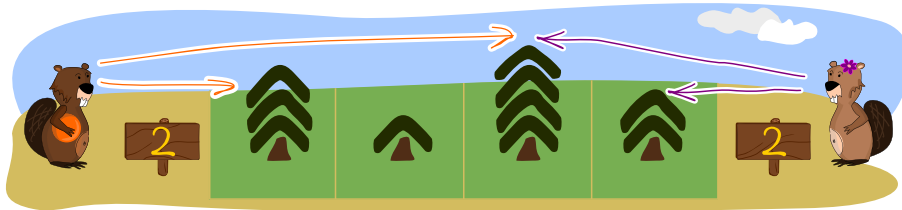
- A) INFORMATIQUE MALINE
- B) ELECTRONIQUE MALINE
- C) INFORMATION SECRETE
- D) INFORMEZ EXACTEMENT



## 8. Sudoku boisé 4×4

Les castors plantent 16 arbres (quatre arbres de hauteur 4 , quatre arbres de hauteur 3 , quatre arbres de hauteur 2 et quatre arbres de hauteur 1 ) dans un champ de taille 4×4. Pour cela, ils suivent les règles suivantes :

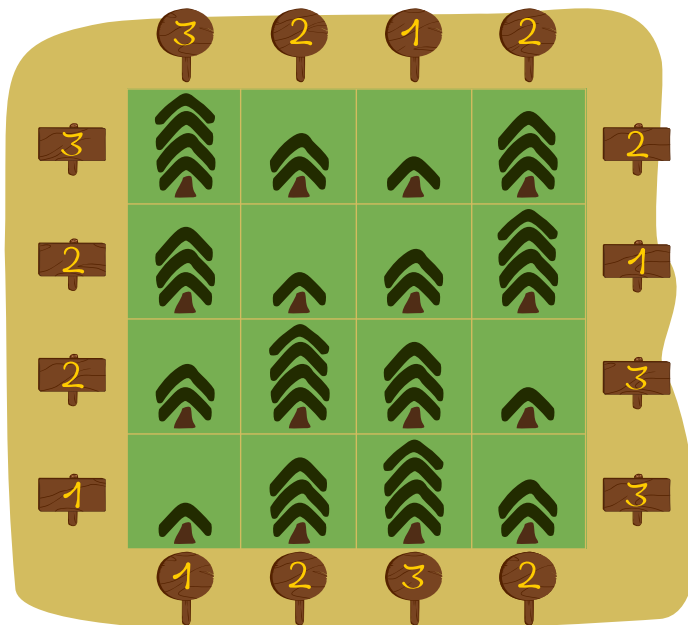
- dans chaque ligne, il y a exactement un arbre de chaque hauteur ;
- dans chaque colonne, il y a exactement un arbre de chaque hauteur.



Lorsque les castors observent une rangée d'arbres depuis l'une de ses extrémités, il ne peuvent **pas** voir les plus petits arbres qui sont cachés derrière de plus grands arbres. C'est écrit sur un panneau au bout de chaque rangée combien de sapins l'on on peut voir depuis cet endroit-là. Les panneaux indiquant le nombre de sapins visibles sont plantés tout autour du champ.

Kubko a essayé de représenter le champ d'après sa description sur une feuille de papier. Il a reporté les chiffres sur les panneaux correctement, mais il a fait des erreurs en dessinant quatre des arbres.

*Entoure les quatre positions auxquelles les arbres dessinés sont faux et note à côté la hauteur de l'arbre qui devrait s'y trouver.*





## 9. Transport d'argent

Bina aime bien nager. Pour aller dans l'eau, elle met sa monnaie dans des sachets étanches pour que le métal ne commence pas à rouiller. Hier, Bina avait pris trois sachets avec 1, 3 et 4 pièces de monnaie. Comme cela, elle a pu payer une poire exactement (sans qu'on ne lui rende de monnaie) sans devoir ouvrir de sachet, mais pas de pomme.



Aujourd'hui, Bina a pris 63 pièces pareilles. Elle aimerait les répartir dans différents sachets de manière à pouvoir payer tous les montants entre 1 et 63 pièces exactement et sans devoir ouvrir de sachet.

*Quel est le plus petit nombre de sachets dont Bina a besoin ?*

- A) 4 sachets
- B) 5 sachets
- C) 6 sachets
- D) 7 sachets
- E) 8 sachets
- F) 15 sachets
- G) 16 sachets
- H) 31 sachets
- I) 32 sachets ou plus



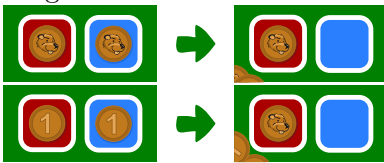
# 10. Las Bebras

Au casino « Las Bebras », Gloria peut jouer avec des pièces de monnaie à la table de John. Gloria a 4 pièces de monnaie avec, d'un côté, une face , et de l'autre côté, et un chiffre . Gloria jette les deux premières pièces et en pose une sur la case rouge et l'autre sur la case bleue.

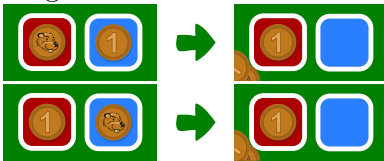


John échange les deux pièces contre une seule pièce qu'il pose sur la case rouge.

- Si les deux pièces sont pareilles, John met la nouvelle pièce face vers le haut sur la case rouge.



- Si les deux pièces sont différentes, John met la nouvelle pièce chiffre vers le haut sur la case rouge.



Gloria jette maintenant une nouvelle pièce et la met sur la case bleue. John échange à nouveau les pièces en suivant les mêmes règles, et ainsi de suite jusqu'à ce que Gloria ait joué ses 4 pièces. Le jeu est terminé lorsque John pose la dernière pièce sur la case rouge. Si cette pièce est posée chiffre vers le haut, Gloria a gagné!

*Gloria jette les quatre pièces dans l'ordre indiqué de droite à gauche. Quelle suite permet à Gloria de gagner ?*

- A)
- B)
- C)
- D)



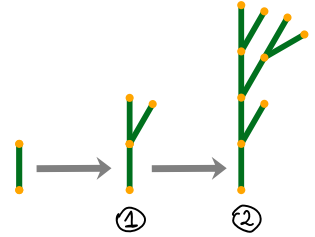
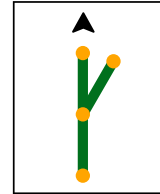
# 11. Arbres digitaux

Un arbre digital est fait de tronçons d'arbre comme celui-ci :

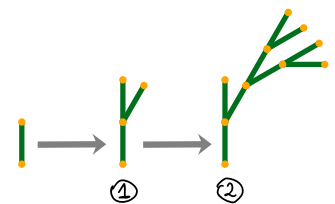
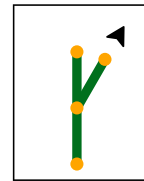


Il pousse étape par étape d'après une règle de croissance définie.


La règle de croissance indique de quelle manière un tronçon est remplacé par une structure composée de nouveaux tronçons. Lors de chaque étape, chaque tronçon est remplacé de cette manière. Une pointe de flèche indique où et dans quelle direction les tronçons sont assemblés.



Les exemples à droite montrent deux règles de croissance et les deux premières étapes de croissance correspondantes.



L'arbre suivant a poussé en trois étapes :



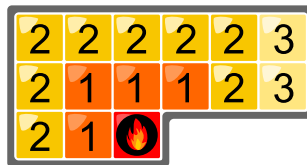
D'après quelle règle de croissance l'arbre digital a-t-il poussé ?

- A)
- B)
- C)
- D)



## 12. Chauffage au sol

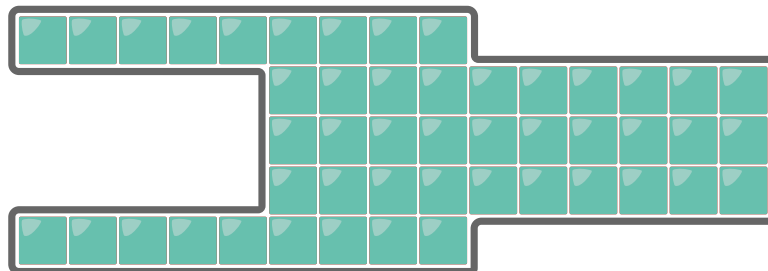
Luis n'aime pas se changer dans la salle de bain froide le matin, c'est pourquoi il aimerait installer un chauffage au sol dans la nouvelle maison. Le chauffagiste lui conseille l'innovant « chauffage au sol à hotspots » : un hotspot est installé directement sous une catelle. Lorsque l'on allume le hotspot, cette catelle devient tout de suite chaude.



En une minute, la chaleur se propage à toutes les catelles voisines, c'est-à-dire à toutes les catelles qui touchent le bord ou un angle de la catelle déjà chauffée. Le nombre sur chaque catelle indique au bout de combien de minutes elle devient chaude.

Luis veut installer quatre hotspots dans sa salle de bain de manière à ce que toutes les catelles deviennent chaudes le plus vite possible.

*Sous quelles quatre catelles le chauffagiste doit-il installer les quatre hotspots ?*






## 13. Journée tranquille

Les castors vivant dans un petit village tranquille sont très détendus. Ils divisent leurs journées en seulement 8 tranches horaires de 3 heures chacune. La tranche horaire en cours est indiquée par trois drapeaux sur l'hôtel de ville comme représenté sur l'image ci-dessous. Les castors utilisent deux sortes de drapeaux, un carré rouge et un triangle bleu.

L'arrangement des drapeaux ci-dessus ne demande le changement que d'un seul drapeau à presque chaque transition. Il n'y a qu'à minuit où trois drapeaux doivent être changés d'un coup. Les castors aimeraient trouver un arrangement plus commode qui permette de ne changer qu'un seul drapeau à chaque transition.


*Trouve un tel arrangement commode pour les castors et dessine les trois drapeaux de chaque tranche horaire.*



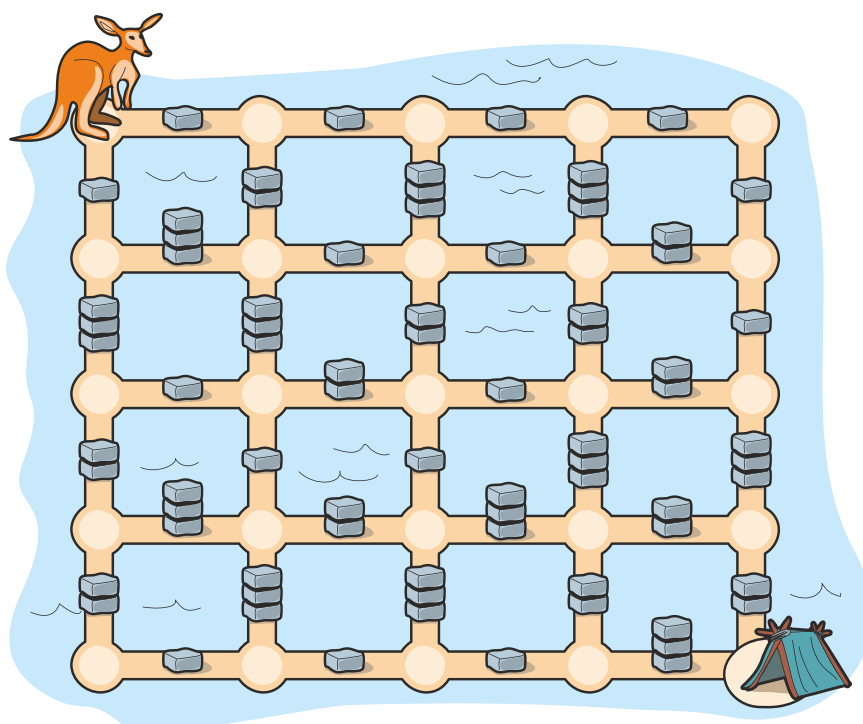


## 14. Kangourou bondissant

Un kangourou saute jusqu'à la maison . Il ne peut sauter que sur le chemin et atteint le croisement suivant d'un grand saut. À un croisement, il peut sauter soit à gauche, soit à droite, soit vers le haut, soit vers le bas. Il n'arrive pas à sautant au dessus d'un tas de 3 cailloux.



Le kangourou aimerait rentrer à la maison par le chemin le plus court.



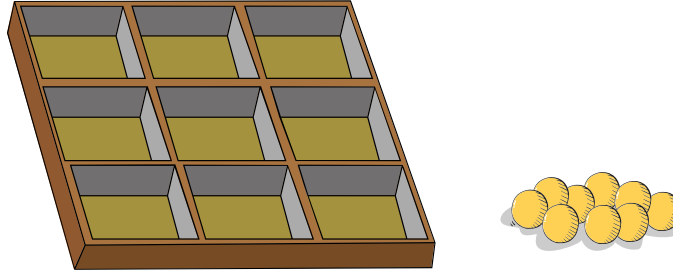
Combien de sauts le kangourou doit-il faire s'il rentre à la maison par le chemin le plus court ?

- A) 10 sauts
- B) 11 sauts
- C) 12 sauts
- D) 13 sauts
- E) 14 sauts
- F) 15 sauts
- G) 16 sauts
- H) 17 sauts
- I) 18 sauts
- J) 19 sauts
- K) 20 sauts



## 15. Des cases et des billes

Hira a une boîte qui est divisée en 9 cases, et un nombre de billes illimité :



Hira met des billes dans les cases de la boîte. Elle suit les règles suivantes :

- elle met au maximum une bille dans chaque case ;
- le nombre de billes total dans chaque ligne et chaque colonne est pair quand elle a fini.

*Combien de motifs différents Hira peut-elle créer ?*

*(La boîte ne peut pas être tournée. Le motif avec une bille en haut à gauche est par exemple différent du motif avec un bille en haut à droite.)*

- A) 12
- B) 16
- C) 64
- D) 512



## A. Auteur·e·s des exercices

- |   |   |
|---|---|
|  Tony René Andersen    |  Vu Van Luan             |
|  Michael Barot         |  Pedro Marcelino         |
|  Wilfried Baumann      |  Hamed Mohebbi           |
|  Maksim Bolonkin       |  Kwangsik Moon           |
|  Andrey Brodnik        |  Xavier Muñoz            |
|  Sarah Chan            |  Vania Natali            |
|  Marios O. Choudary    |  Rana R. Natawigena      |
|  Valentina Dagienė     |  Ágnes Erdősné Németh    |
|  Tolmantas Dagys       |  Andrei Nicolicioiu      |
|  Christian Datzko      |  Elsa Pellet             |
|  Susanne Datzko      |  Jean-Philippe Pellet  |
|  Amirmohammad Djazbi |  Wolfgang Pohl         |
|  Nora A. Escherle    |  Raymond Chandra Putra |
|  Lidia Feklistova    |  Peter Rossmannith     |
|  Fabian Frei         |  Vipul Shah            |
|  Gerald Futschek     |  Fei Shang             |
|  Jens Gallenbacher   |  Wenpan Sheng          |
|  Tom Grubb           |  Timur Sitdikov        |
|  Mathias Hiron       |  Maciej M. Sysło       |
|  Juraj Hromkovič     |  Congyu Tian           |
|  Alisher Ikramov     |  Jiří Vaníček          |
|  Thomas Ioannou      |  Troy Vasiga           |
|  Ungyeol Jung        |  Fan Wang              |
|  Vaidotas Kinčius    |  Yang Xing             |
|  Ritambhira Korpál   |  Binru Zhi             |
|  Regula Lacher       |   |




## B. Sponsoring : Concours 2020

**HASLERSTIFTUNG** <http://www.haslerstiftung.ch/>

 <http://www.baerli-biber.ch/>

 <http://www.verkehrshaus.ch/>  
Musée des transports, Lucerne


 **Kanton Zürich  
Volkswirtschaftsdirektion  
Amt für Wirtschaft und Arbeit** Standortförderung beim Amt für Wirtschaft und Arbeit Kanton Zürich


 i-factory (Musée des transports, Lucerne)

 <http://www.ubs.com/>

 <http://www.oxocard.ch/>  
OXOcard  
OXON

 <https://educatec.ch/>  
educaTEC

 <http://senarclens.com/>  
Senarclens Leu & Partner

 <http://www.abz.inf.ethz.ch/>  
Ausbildungs- und Beratungszentrum für Informatikunterricht der  
ETH Zürich.



**hep/** haute  
école  
pédagogique  
vaud

<http://www.hepl.ch/>  
Haute école pédagogique du canton de Vaud

**PH LUZERN**  
**PÄDAGOGISCHE**  
**HOCHSCHULE**

<http://www.phlu.ch/>  
Pädagogische Hochschule Luzern

**n|w** Fachhochschule  
Nordwestschweiz

<https://www.fhnw.ch/de/die-fhnw/hochschulen/ph>  
Pädagogische Hochschule FHNW

Scuola universitaria professionale  
della Svizzera italiana

**SUPSI**

<http://www.supsi.ch/home/supsi.html>  
La Scuola universitaria professionale della Svizzera italiana  
(SUPSI)

**z** — hdk  
—  
Zürcher Hochschule der Künste  
Game Design

<https://www.zhdk.ch/>  
Zürcher Hochschule der Künste



## C. Offres ultérieures

010100110101011001001001  
010000010010110101010011  
010100110100100101000101  
001011010101001101010011  
010010010100100100100001

**SS!E**

[www.svia-ssie-ssii.ch](http://www.svia-ssie-ssii.ch)  
schweizerischerverein fürinformatikind  
erausbildung//société suisse pour l'infor  
matique dans l'enseignement//società sviz  
zeraper l'informaticanell'insegnamento

Devenez vous aussi membre de la SSIE

<http://svia-ssie-ssii.ch/la-societe/devenir-membre/>

et soutenez le Castor Informatique par votre adhésion

Peuvent devenir membre ordinaire de la SSIE toutes les personnes qui enseignent dans une école primaire, secondaire, professionnelle, un lycée, une haute école ou donnent des cours de formation ou de formation continue.

Les écoles, les associations et autres organisations peuvent être admises en tant que membre collectif.